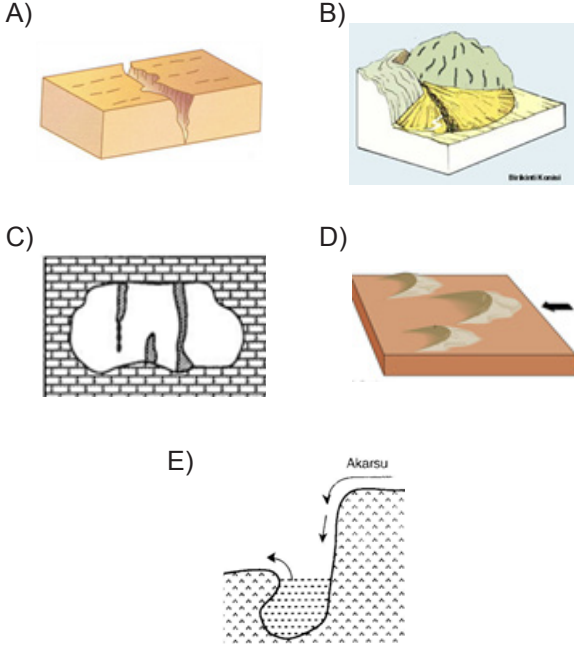


Rüzgarların Oluşturduğu Yeryüzü Şekilleri

1. Aşağıdaki yer şekillerinden hangisi rüzgârların biriktirme faaliyetleri sonucunda oluşmuştur?

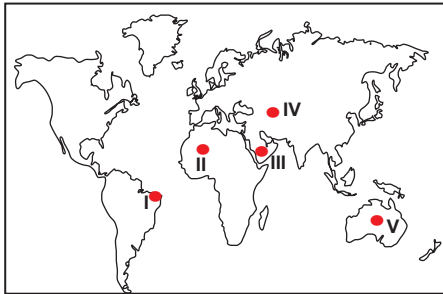


2. I. Bitki örtüsünün cılız olması
II. Nem oranının yüksek olması
III. Fiziksel aşındırmanın hızlı olması
IV. Ortalama sıcaklık değerinin düşük olması

Yukarıda verilen durumlardan hangileri rüzgarların aşındırma faaliyetlerini olumlu etkiler?

- A) I. ve II. B) I. ve III. C) II. ve III.
D) II. ve IV. E) III. ve IV.

3.



Haritada numaralandırılarak verilen yerlerden hangisi rüzgârların aşındırma gücünün fazla olduğu yerler arasında gösterilemez?

- A) I B) II C) III D) IV E) V

4. Rüzgar erozyonunu azaltmak için yapılacak aşağıdaki çalışmalardan hangisi daha etkili olur?

- A) Baraj yapımı
B) Ağaçlandırma çalışmaları
C) Tarımsal üretimin azaltılması
D) Nadas yönteminin desteklenmesi
E) Hayvancılık faaliyetlerinin yaygınlaştırılması

5. Aşağıdaki iklim tiplerinden hangisinin görüldüğü yerlerde rüzgarların aşındırma ve biriktirme faaliyetleri daha fazladır?

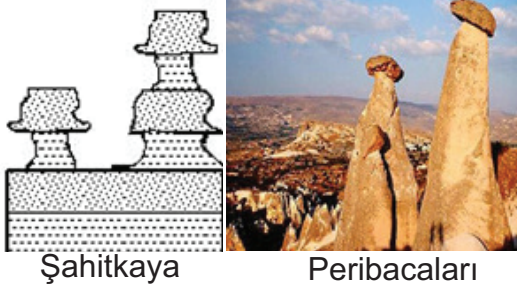
- A) Okyanusal İklim B) Muson İklimi
C) Tundra İklimi D) Çöl İklimi
E) Akdeniz İklimi

6. Aşağıdakilerden hangisi rüzgarların aşındırma ve biriktirme faaliyetlerinin fazla olduğu yerlerin ortak özelliğidir?

- A) Bitki örtüsünün zayıf olması
B) Yağış rejiminin düzenli olması
C) Yer şekillerinin engebeli olması
D) Kimyasal çözülmenin fazla olması
E) Sıcaklık ortalamasının yüksek olması

Rüzgarların Oluşturduğu Yeryüzü Şekilleri

7.



- I. Nemli bir iklime sahip olması
 II. Bitki örtüsünün seyrek olması
 III. Arazinin farklı dirençteki kayalardan oluşması

Görselde verilen yer şekillerinin bulunduğu bölgelerin ortak özelliği olarak yukarıdakilerden hangileri gösterilebilir?

- A) Yalnız I B) Yalnız II C) Yalnız III
 D) I. ve II. E) II. ve III.

8.



Görselde gösterilen yeryüzü şeklinin ismi nedir?

- A) Mantarkaya
 B) Peribacası
 C) Badlans
 D) Barkan
 E) Tafoni

9. Aşağıdaki toprak tiplerinden hangisi rüzgarların aşındırıp taşıyarak biriktirmesi sonucu oluşmuş topraklardır?

- A) Kolüvyal topraklar
 B) Alüvyonlar
 C) Rendzinalar
 D) Morenler
 E) Lössler

10. I. Büyük sahra çölü
 II. Sibiry'a'nın kuzeyi
 III. Amazon havzası

Yukarıda verilen yerlerden hangilerinde rüzgarların yeryüzünü şekillendirici etkisi daha fazladır?

- A) Yalnız I B) Yalnız II C) Yalnız III
 D) I. ve II. E) I ve III

11. Aşağıdaki yer şekillerden hangisinin oluşumunda rüzgarların dolaylı etkisi vardır?

- A) Hörgüç kaya B) Sarkıt C) Lapyta
 D) Irmak adası E) Falez