

## Nüfus, Nüfus Sayımları ve Nüfus Politikaları

1. Bir ülkenin nüfusunun yapısal özelliklerinden yola çıkarak, o ülkenin gelişmişlik düzeyi hakkında çıkarımda bulunabilir.

**Buna göre gelişmiş bir ülkenin nüfus özellikleri arasında aşağıdakilerden hangisi gösterilemez?**

- A) Doğal nüfus artış hızı düşüktür.
- B) Nüfusun eğitim seviyesi yüksektir.
- C) Ülke dışına giden beyin göçü oranı fazladır.
- D) Yaşlı nüfus oranı, genç nüfus oranından fazladır.
- E) Çalışan nüfusun büyük çoğunluğu tarım dışı sektörlerde çalışır.

2. Dünya'da nüfusun tarihsel artışına bakıldığında, dünya nüfusunun üç önemli sıçrama dönemi geçirdiği görülmektedir. Bu sıçramalardan birincisi insanların alet yapmayı öğrenmesi ve kendilerini yabani hayvanlara karşı korumasıyla olmuştur. İkincisi insanların toprağı işleyerek tarımsal faaliyetler yapmayı öğrenmesiyle olmuştur. Üçüncüsü ise Sanayi devriminin gerçekleşmesi ve insanların sağlık ve beslenme koşullarının iyileşmesi sonucunda gerçekleşmiştir.

**Bu bilgiye göre Dünya'da nüfusu hakkında aşağıda verilenlerden hangisi kesin söylenebilir?**

- A) Üçüncü sıçrama döneminde kadın nüfusundaki artış oranı erkek nüfusundaki artış oranına göre daha fazla olmuştur.
- B) İkinci sıçrama döneminde yaşanan nüfus artış hızı üçüncü sıçrama dönemine göre daha fazla olmuştur.
- C) İnsanların sağlık ve beslenme koşullarının iyileşmesi nüfus artışına neden olmuştur.
- D) Ilıman iklim şartlarının yaşandığı yerlerde nüfus artışı yaşanmamıştır.
- E) Dünya'nın her yerinde nüfus sıçramaları aynı anda yaşanmıştır.

3. Az gelişmiş ya da gelişmekte olan ülkelerde nüfusun dağılışı üzerinde doğal çevre koşulları gelişmiş ülkelere oranla daha fazla etkili olmaktadır.

**Buna göre, aşağıda verilen ülkelerin hangisinde nüfusun dağılışı üzerinde doğal çevre koşullarının etkisinin diğerlerine göre daha az olduğu söylenebilir?**

- A) Nijerya
- B) Hollanda
- C) Mısır
- D) Pakistan
- E) Bangladeş

4. Aritmetik nüfus yoğunluğu bir yerde yaşayan toplam nüfusun o yerin yüzölçümüne bölünmesi ile elde edilir.

- I. İç göçler
- II. Savaşlar
- III. Salgın hastalıklar

**Yukarıda verilenlerden hangilerinin görüldükleri ülkenin aritmetik nüfus yoğunluğu üzerinde etkisi olduğu söylenemez?**

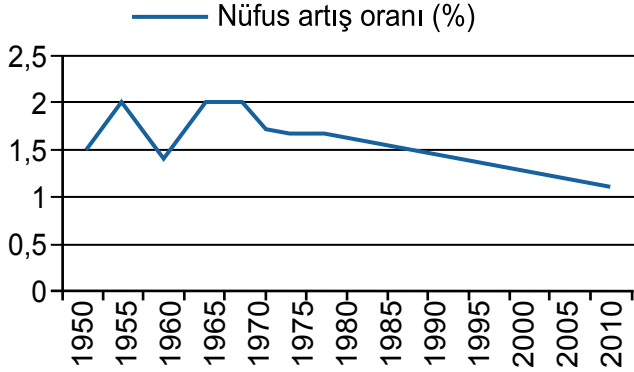
- A) Yalnız I
- B) Yalnız II
- C) Yalnız III
- D) I. ve III.
- E) II. ve III.

5. Dünya nüfusu hakkında aşağıda verilen bilgilerden hangisi yanlıştır?

- A) Avrupa kıtasında doğal nüfus artış hızı Afrika kıtasına göre daha azdır.
- B) Asya kıtasında yaşayan nüfus Avrupa kıtasına göre daha fazladır.
- C) Dünya'nın nüfus artış hızı azalış gösterirken nüfusu artış göstermektedir.
- D) Avustralya kıtasında insanların ortalama yaşam süresi artmaktadır.
- E) Dünya nüfusu 7 milyardan fazladır.

## Nüfus, Nüfus Sayımları ve Nüfus Politikaları

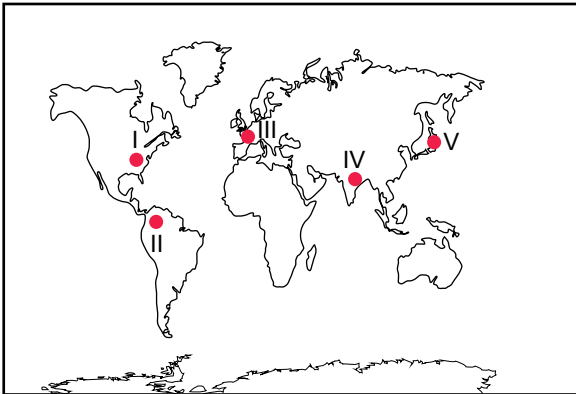
6. Aşağıdaki grafikte Dünya nüfusunun 1950-2010 yılları arasındaki artış hızı grafiği verilmiştir.



Grafikteki bilgilere bakarak aşağıdakilerden hangisi kesin söylenebilir?

- A) Dünya nüfusu 1975 yılından sonra sürekli olarak azalmıştır.  
B) Dünya nüfusunda 1955 yılından 1960 yılına kadar yarım milyar azalma olmuştur.  
C) Verilen yıllar içerisinde en düşük nüfus artış hızı 1960 yılında olmuştur.  
D) Nüfus artış hızı 1980 yılından sonra düzenli olarak azalmıştır.  
E) Verilen yıllar içerisinde nüfus miktarının en fazla olduğu yıl 1965 yılıdır.

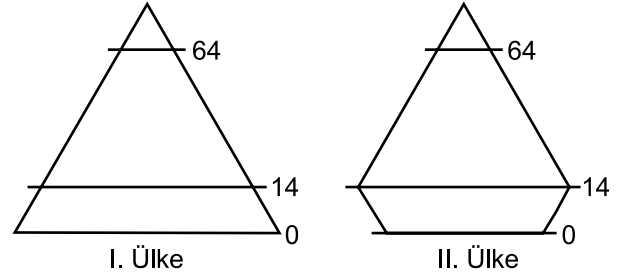
7.



Harita üzerinde numaralandırılarak verilen yerlerin hangisi tarımsal faaliyetler nedeniyle nüfusun sık olduğu yerlere örnek olarak gösterilebilir?

- A) I B) II C) III D) IV E) V

8.

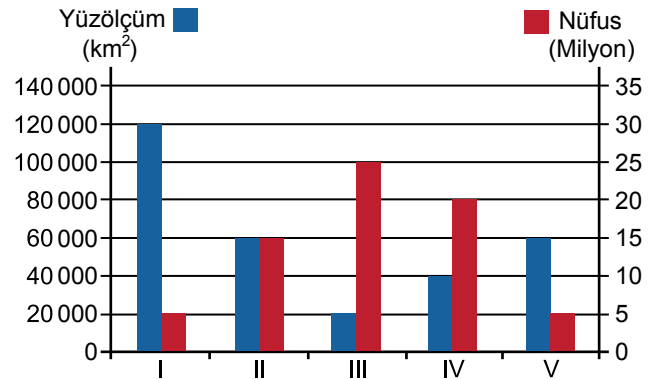


Yukarıda iki farklı ülkenin 2010 yılına ait nüfus piramitleri verilmiştir.

Nüfus piramitleri verilen ülkeler ile ilgili olarak aşağıdakilerden hangisi söylenebilir?

- A) İki ülkenin uyguladıkları nüfus politikaları aynıdır.  
B) I. ülkenin toplam nüfusu II. ülkeye göre daha fazladır.  
C) I. ülkede doğal nüfus artış hızı II. ülkeye göre daha düşüktür.  
D) II. ülkede aritmetik nüfus yoğunluğu I. ülkeye göre daha düşüktür.  
E) II. ülkede 2000 yılından 2010 yılına kadar doğal nüfus artış hızında azalma olmuştur.

9.



Yukarıdaki grafikte beş farklı yerin toplam nüfusları ve yüzölçümleri verilmiştir.

Bu yerlerden hangisinin aritmetik nüfus yoğunluğunun diğerlerine göre daha fazla olduğu söylenebilir?

- A) I B) II C) III D) IV E) V

ÖLÇME, DEĞERLENDİRME VE SINAV HİZMETLERİ GENEL MÜDÜRLÜĞÜ



Adı : .....  
Soyadı : .....  
Sınıf : .....  
NO : .....

1	2	3	4	5	6	7	8	9	10	11	12
A	A	A	A	A	A	A	A	A	A	A	A
B	B	B	B	B	B	B	B	B	B	B	B
C	C	C	C	C	C	C	C	C	C	C	C
D	D	D	D	D	D	D	D	D	D	D	D
E	E	E	E	E	E	E	E	E	E	E	E

Doğru : .....  
Yanlış : .....  
Boş : .....  
Puan : .....