

## Büyük İklim Tipleri

1. Doğal bitki toplulukları aynı olan iki bölgenin öncelikle aşağıdaki özelliklerinden hangisinin aynı olması beklenir?

- A) Yer şekilleri
- B) İklim özellikleri
- C) Jeolojik yapıları
- D) Denize göre konumları
- E) Buldukları yarım küreler

2. Aşağıdaki iklim tiplerinden hangisinin görüldüğü yerde bitki örtüsü daha gürdür?

- A) Karasal İklim
- B) Savan İklimi
- C) Ekvatorial İklim
- D) Akdeniz İklimi
- E) Ilıman okyanusal iklim

3. Yıllık yağış miktarı fazla ve yağışın mevsimlere dağılışı düzenli olan bir bölge için aşağıdakilerden hangisi söylenemez?

- A) Bitki örtüsü gürdür.
- B) Bağıl nem oranı yüksektir.
- C) Güneşlenme süresi fazladır.
- D) Toprakların yıkanma oranı fazladır.
- E) Kimyasal çözünme, fiziksel ayrışmaya göre daha hızlıdır.

4. Aşağıdaki iklim tiplerinden hangisinin oluşmasında kara ve denizlerin farklı ısınma özelliği daha fazla etkili olmuştur?

- A) Ekvatorial İklimi
- B) Savan iklimi
- C) Muson iklimi
- D) Tundra iklimi
- E) Akdeniz iklimi

5. Günlük sıcaklık farkının fazla olduğu yerlerde kayaçların fiziksel ayrışması daha hızlı gerçekleşmektedir.

Aşağıdaki iklimlerden hangisinin etkili olduğu bölgede fiziksel ayrışma daha hızlıdır?

- A) Karasal iklim
- B) Kutup iklimi
- C) Ilıman okyanus iklimi
- D) Muson iklimi
- E) Çöl iklimi

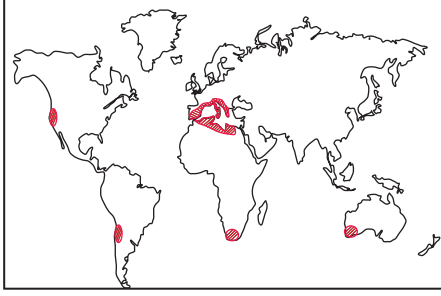
6. Muson iklim bölgelerindeki bitkiler kışın yaprağını dökerken; Ekvatorial iklim bölgesindeki bitkiler yıl boyunca yeşil kalmaktadır.

Bu farklılığın oluşmasındaki temel etken aşağıdakilerden hangisidir?

- A) Sıcaklık
- B) Yükselti
- C) Yer şekilleri
- D) Mutlak nem
- E) Toprak yapısı

## Büyük İklim Tipleri

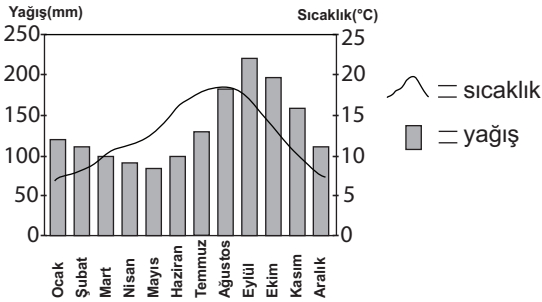
7.



Haritada yayılış alanı gösterilen iklim tipi aşağıdakilerden hangisinde verilmiştir?

- A) Akdeniz B) Çöl  
C) Tundra D) Ekvatorial  
E) Karasal

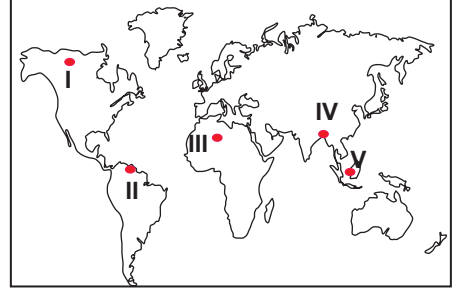
8. Aşağıdaki grafikte bir yere ait sıcaklık ve yağışın aylara göre dağılışı verilmiştir.



Bu grafiğe bakıldığında bu yer hakkında aşağıdakilerden hangisi söylenemez?

- A) Kuzey Yarım Küre'de yer alır.  
B) Yağışların çoğu yağmur şeklindedir.  
C) Yıllık yağış miktarı 1500 mm civarındadır.  
D) Yıllık sıcaklık ortalaması 15°C civarındadır.  
E) Sıcaklık ve yağışın en fazla olduğu ay eylül ayıdır.

9.



Haritada numaralandırılarak verilen yerlerin hangisi tundra iklim bölgesi içerisinde yer alır?

- A) I B) II C) III D) IV E) V

10. I. Amazon Havzası - Ekvatorial iklim  
II. Güneydoğu Asya - Muson İklimi  
III. Sibiry - Savan İklimi  
IV. Kuzey Avrupa - Akdeniz iklimi

Yukarıda verilen yerlerde yaygın olarak görülen iklim tipleri eşleştirilmiştir. Bu eşleştirmelerinden hangileri yanlıştır?

- A) I. ve II.  
B) I. ve III.  
C) II. ve IV.  
D) II. ve III.  
E) III. ve IV.

11. • Yaz yağışları fazladır.  
• Çay ve çeltik tarımı yaygındır.  
• Bitki örtüsü yaprağını döken ormanlardan oluşur.

İklim özellikleri düşünüldüğünde yukarıda verilen özellikler aşağıdaki ülkelerden hangisine ait olabilir?

- A) Brezilya B) Kanada  
C) Mısır D) Tayland  
E) İngiltere

ÖLÇME, DEĞERLENDİRME VE SINAV HİZMETLERİ GENEL MÜDÜRLÜĞÜ



Adı : .....  
Soyadı : .....  
Sınıf : .....  
No : .....

1	2	3	4	5	6	7	8	9	10	11	12
A	A	A	A	A	A	A	A	A	A	A	A
B	B	B	B	B	B	B	B	B	B	B	B
C	C	C	C	C	C	C	C	C	C	C	C
D	D	D	D	D	D	D	D	D	D	D	D
E	E	E	E	E	E	E	E	E	E	E	E

Doğru : .....  
Yanlış : .....  
Boş : .....  
Puan : .....