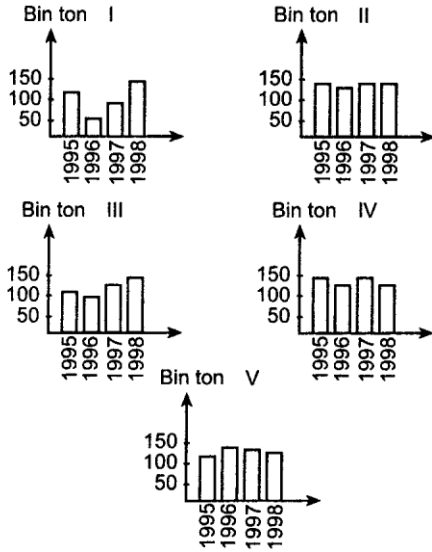


# COĞRAFYA KONU TESTİ

## TÜRKİYE'DE TARIM

TEST NO:8

1. Sulama imkanlarının kısıtlı olduğu yerlerde tarımda kuru tarım yöntemi uygulanmaktadır.



Buna göre yukarıda beş bölgede ürün miktarlarındaki değişiklik iklime bağlı olduğuna göre hangi bölgede iklim daha kararsızdır?

- A) I B) II C) III D) IV E) V

2. Aşağıdaki tarım ürünlerinden hangisi, Türkiye'nin iç tarım bölgelerinin ekonomisinde daha büyük paya sahiptir?

- A) Zeytin B) Tütün C) Şekerpancarı  
D) Fındık E) Mısır

3. Bir yerde iklim, toprak koşulları veya ekonomik koşullar gibi nedenlerle bir bitki türü çok yaygın olarak yetişiriyorsa böyle bitkilere o yöre için "monokültür bitkisi" denir.

**Bu tanıma göre, aşağıdakilerin hangisinde verilen tarım bitkisi, karşısında verilen yöre için monokültür bitkisi değildir?**

- | Bitki       | Yöre             |
|-------------|------------------|
| A) Çay      | Rize Yöresi      |
| B) Ayçiçeği | Ergene Havzası   |
| C) Pamuk    | Antalya Yöresi   |
| D) Mercimek | Gaziantep Yöresi |
| E) Buğday   | Konya yöresi     |

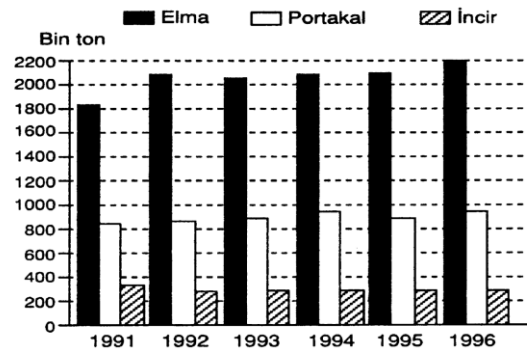
4. Türkiye'de besi ve ahır hayvancılığının genellikle şeker fabrikası bulunan yörelerde yoğunlaşması, aşağıdakilerden hangisine bağlanabilir?

- A) Şekerpancarının yem bitkileri ile nöbetleşe ekilmesi  
B) Meralarda şekerpancarı ekiminin yaygın olması  
C) Şekerpancarı küspesinin hayvan yemi olarak kullanılması  
D) Ulaşım imkanlarının kolay olması  
E) Makineleşmenin bu yerlerde gelişme imkanı bulması

5. Türkiye'de seracılık ve turfandacılığın en fazla geliştiği yerin Akdeniz ve Ege bölgesi olmanın birincil nedeni aşağıdakilerden hangisidir?

- A) Yıl içerisinde güneşlenme süresinin uzun olması  
B) Kış mevsiminin yağışlı olması  
C) Toprakta verimin yüksek olması  
D) Tarımla uğraşan nüfusun fazla olması  
E) Sulama ve makineleşme oranının fazla olması

6. Aşağıdaki grafikte Türkiye'de elma, portakal ve incir gibi meyvelerin 1991 – 1996 öster yılları arasındaki üretim miktarları gösterilmiştir.



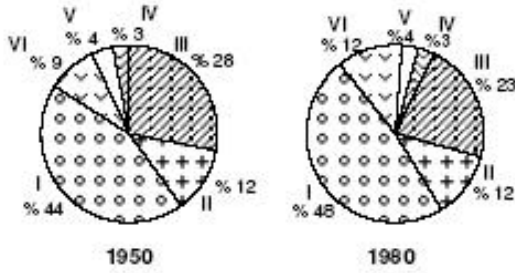
**Yalnızca grafikteki bilgilere dayanarak aşağıdaki genellemelerden hangisine ulaşamaz?**

- A) Elma üretimi her zaman portakal ve incir üretiminden fazladır  
B) 1991'den 1992'ye gelindiğinde en fazla artış elma üretiminde olmuştur  
C) Elma ekilen alanlarda birim başına alınan verim daha yüksektir  
D) 1996 yılında incir ve portakal üretiminin toplamı elmadan daha azdır  
E) İncir üretimi her zaman elma üretiminin yarısından daha azdır

7. Türkiye’de fındık ve arpanın yetiştiği yerler düşünüldüğünde bu iki ürünün coğrafi dağılımını aşağıdaki etkenlerden hangisi öncelikle belirlemektedir?

- A) Yüzeş şekilleri  
B) Yağış rejimi  
C) Enlem  
D) Rüzgarlar  
E) Toprak yapısı

8. Aşağıdaki grafiklerde altı farklı tarım ürününün 1950 – 1980 yılları arasındaki üretim miktarları gösterilmiştir.



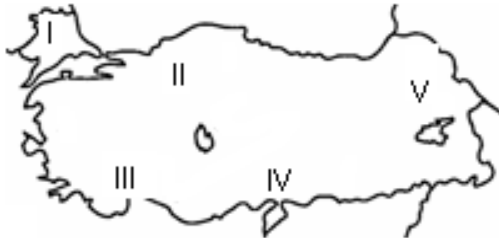
Yalnızca grafikte verilen bilgilerden yararlanarak aşağıdaki yargılardan hangisine ulaşamayız?

- A) I. Tarım ürününde 30 yıllık dönem içerisinde artış oranı % 50’den azdır  
B) II. ve IV. Ürünün üretim miktarında 30 yıllık dönem içerisinde bir değişiklik olmamıştır  
C) 30 yıllık dönem içerisinde üretimde azalma sadece III. tarım ürününde olmuştur  
D) Verilen ürünlerden I. tarım ürününün üretim miktarı 1980 yılında II,III ve IV. Tarım ürününün toplamından fazladır  
E) Yağış miktarlarında görülen kararsızlık VI. Tarım ürününün üretimini azaltmıştır

9. Aşağıdaki ülkelerin hangisinde doğal olarak yetiştirilen bir tarım ürününün Türkiye’de yetiştirilmesi güçtür?

- A) İngiltere  
B) Kanada  
C) Brezilya  
D) Fransa  
E) İtalya

10.



Yukarıdaki haritada numaralandırılmış yerlerin hangisinde tarımsal faaliyetlere ayrılan zaman daha kısadır?

- A) I  
B) II  
C) III  
D) VI  
E) V

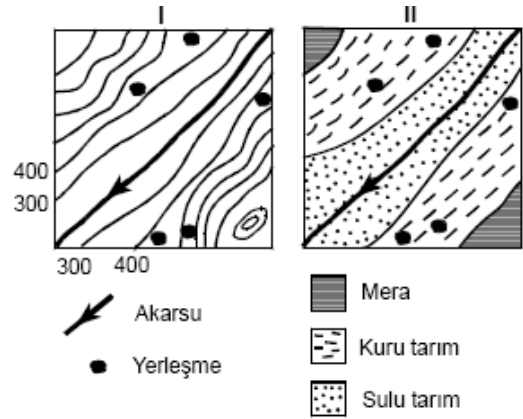
11. Tarımda sulama probleminin çözülmesi aşağıdaki ürünlerden hangisinin veriminin artmasını en az etkiler?

- A) Mercimek  
B) Fasulye  
C) Şekerpancarı  
D) Pamuk  
E) Domates

12. Ege Bölgesinde yetişen bir tarım ürününü aşağıdaki ülkelerden hangisine ihraç etme imkanı daha fazladır?

- A) Yunanistan  
B) Fransa  
C) İspanya  
D) Danimarka  
E) İtalya

13. Aşağıdaki I numaralı harita bir yerin eşyüksele eğrileriyle çizilmiş “topoğrafya” haritasıdır. II numaralı harita ise aynı yerin, aynı ölçekle çizilmiş “arazi kullanım” haritasıdır.



Haritadaki bilgilere dayanarak bu yerle ilgili aşağıdaki yargılardan hangisine ulaşılabilir?

- A) Akarsuya yakın yerlerde kuru tarım yöntemi yaygındır  
B) Akarsu kenarlarında yerleşme daha yaygındır  
C) 600 metrenin altındaki sahalarda sulu tarım yöntemi yaygındır  
D) Mera alanların 300 metrenin altındaki alanlarda yaygındır  
E) Akarsuyun aktığı saha makineleşmeye uygun değildir

14. Aşağıdaki ürünlerden hangisi yaz kuraklığına daha dayanıksızdır?

- A) Buğday  
B) Mercimek  
C) Pamuk  
D) Arpa  
E) Fındık

**Türkiye’de tarım test no:8**

1. A
- 2.C
- 3.C
- 4.C
- 5.A
- 6.C
- 7.B
- 8.E
- 9.C
- 10.E
- 11.A
- 12.D
- 13.C
- 14.E