

COĞRAFYA KONU TESTİ

KONU: TÜRKİYE'DE TARIM

TEST NO: 7

1. Tarım ürünlerinin çeşitliliği ile sıcaklık arasında yakın bir ilişki vardır.



haritada numaralanmış yerlerin hangisinde tarım ürünlerinin çeşitliliği daha azdır?

- A) I B) II C) III D) IV E) V

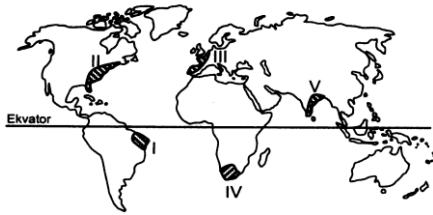
2. Ülkemizde ekilen bazı ürünlerinin ekim alanları devlet kontrolü altındadır.

- I. Keten
II. Pirinç
III. Buğday
IV. Tütün

Yukarıda verilen tarım ürünlerinden hangisi için böyle bir durum söz konusu değildir ?

- A) Yalnız II B) Yalnız III C) II ve IV
D) I ve IV E) I ve III

- 3.



Yaz aylarının sıcak ve kurak, kış aylarının ılıman ve yağışlı olduğu yerlerde yetişebilen bir tarım ürünü, haritada numaralandırılmış yerlerin hangisinde uygun yetişme ortamı bulmaktadır?

- A) I B) II C) III D) IV E) V

4. Aşağıdaki illerin hangisinde iklim koşullarından dolayı pamuk tarımı yapılamaz?

- A) Adana B) İzmir C) Malatya
D) Artvin E) Iğdır

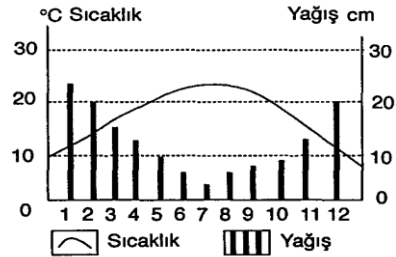
5. Şeker fabrikaları Güneydoğu Anadolu Bölgesi hariç Türkiye'nin her bölgesinde yaygındır. **Şeker fabrikalarının bu kadar yaygın olmasının birincil nedeni aşağıdakilerden hangisidir?**

- A) Şeker ihtiyacının yüksek olması
B) Fabrikalarının kurulmasının kolay olması
C) Şekerpancarı ekiminin yaygın olması
D) Şekerpancarının kolay bozulan bir tarım ürünü olması
E) Fabrikaların hammaddeye yakın yerlerde kurulması

6. İç bölgelerimizde yıllık yağış miktarı, tarımsal üretimi büyük ölçüde etkilemektedir. **Buna göre, iç bölgelerimizde tarımla ilgili en doğru yargı aşağıdakilerden hangisidir?**

- A) Sanayi bitkileri tarımı yaygındır
B) Entansif tarım yöntemleri uygulanmaktadır
C) Birim başına alınan verim yüksektir
D) Tarımda sulama problemi yaşanmaz
E) Ekstansif tarım yöntemleri uygulanmaktadır

- 7.



Yukarıda sıcaklık ve yağış grafiği verilen bölgede, hangi ürünün yetişmesi için sulamaya daha çok gereksinim duyulmaktadır?

- A) Buğday B) Mısır C) Arpa
D) Narenciye E) Tütün

8. I. Karadeniz İklimi
II. Akdeniz İklimi
III. Ekvatorial İklim
IV. Sert Karasal İklim
V. Okyanus İklimi

Her mevsim yağış ve sıcaklık isteyen bir tarım ürününün, yukarıda verilen iklimlerden hangisinde yetişmesi zordur?

- A) I ve II B) II ve V C) II ve IV
D) III ve V E) III ve IV

9. Aşağıdaki tabloda yüz ölçüm ve iklim özellikler aynı olan beş farklı ülkede yetiştirilen bir tarım ürününün 1997 – 2001 yılları arasındaki üretim miktarları gösterilmiştir.

Ülkeler	1997	1998	1999	2000	2001
I	42	41	41	42	43
II	25	34	27	31	33
III	28	28	29	31	29
IV	37	36	36	35	36
V	24	21	19	23	22

Bu tablodaki bilgilerden yararlanarak, söz konusu ülkelerle ilgili aşağıdaki yargılardan hangisine ulaşamaz?

- A) Entansif tarım yöntemi I. Ülkede II. Ülkeye göre daha fazla gelişmiştir
 B) III. ve IV. Ülkelerde tarım faaliyetleri iklim koşullarından etkilenmez
 C) Bölgeler arası iklim farklılığının en fazla olduğu ülke V. ülkedir
 D) 1997 – 1998 yılları arasında üretim miktarında değişimin olmadığı tek yer III. Ülkedir
 E) 2001 yılında I. , II. ve III. Ülke 1997 yılına göre daha fazla ürün elde ederken, IV. Ve V. ülkelerde üretim düşmüştür.

10.



Haritada numaralandırılmış yerlerin tarımsal özellikleri ile ilgili aşağıdaki yargılardan hangisine ulaşamaz?

- A) Ayçiçeği en fazla 3 numaralı bölgede yetiştirilmektedir
 B) Aynı anda ekilen tarım ürününün en son hasadının yapıldığı yer 6 numara ile gösterilmiştir
 C) 2 ve 4 numaralı yerlerde iklim koşullarından dolayı sebze ve meyve üretimi fazladır
 D) 1 ve 5 numaralı yerlerde nem isteği farklı olan tarım ürünleri yetiştirilmektedir
 E) Tarımda nadasa bırakmanın en fazla yapıldığı yer 1 numara ile gösterilmiştir

11. Aşağıdaki tarım ürünlerinden hangisi doğal olarak diğerleriyle aynı tarım bölgesinde yetişmez?

- A) Fındık B) Pamuk C) Zeytin
 D) Turunçgil E) Şekerpancırı

12. Buğday, arpa ve çavdar gibi tahıl ürünlerinin Türkiye’de Karadeniz Bölgesi dışında hemen her yerde yetişmesinin en önemli nedeni aşağıdakilerden hangisidir?

- A) Nem isteğinin az olması
 B) Ekim ve hasat işlerinin kolay olması
 C) Temel gıda maddesi olması
 D) Toprak koşullarının uygun olması
 E) Makineleşme oranının düşük olması

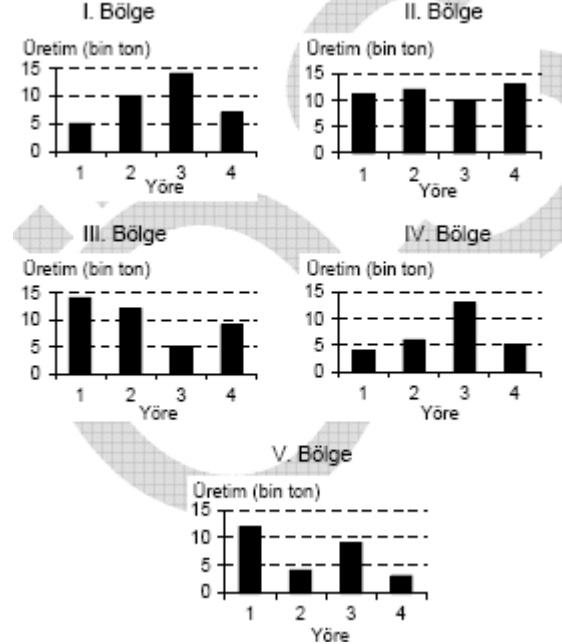
13. Türkiye’de yetiştirilen tarım ürünü çeşidinin fazla olmasının en önemli nedeni aşağıdakilerden hangisidir?

- A) Orta kuşakta yer alması
 B) Tarımda makineleşmenin fazla olması
 C) Doğal yapının çok çeşitlilik göstermesi
 D) Akdeniz iklim kuşağında yer alması
 E) Kuzey yarımkürede yer alması

14. Aşağıdakilerden hangisi, Türkiye’de tarla tarımında birim alanda alınan ürün miktarını arttıracak önlemlerden biridir?

- A) Tarım alanlarının artırılması
 B) Tarımla uğraşan nüfus sayısının artırılması
 C) Sulama yapılan tarım alanlarının artırılması
 D) Nadas yöntemini daha yaygın hale getirmek
 E) Tarım alanları küçük ve parçalı hale getirmek

15. Aşağıdaki grafikler dörder yöresi bulunan ve yüz ölçümleri birbirine yakın olan beş bölgede pamuk ekim alanlarını göstermektedir.



Yalnızca grafikteki bilgiler göz önüne alındığında, bu beş bölgenin hangisinde tüm yörelerin pamuk tarımı için daha elverişli olduğu söylenebilir?

- A) I B) II C) III D) IV E) V

Türkiye'de tarım test no:7

1. E
- 2.B
3. D
- 4.D
- 5.E
6. E
- 7.B
- 8.C
- 9.C
- 10.E
- 11A
- 12.A
- 13.C
- 14.C
- 15.B