

COĞRAFYA KONU TESTİ

KONU:TÜRKİYEDE TARIM

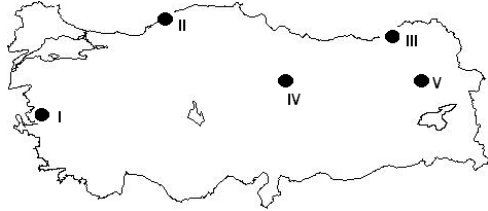
TEST NO : 4

1. Arazinin çok dağlık ve engebeli olduğu yerlerde tarımda makine kullanımı zorlaştığından tarım etkinlikleri büyük ölçüde insan emeğine dayanır.

Aşağıdakilerden hangisinde verilenlerin ikisi de bu durum için bir örnektir?

- A) Güney Marmara – Asil Ege
B) Adana – İç Batı Anadolu
C) Dicle – Yıldız Dağları
D) Doğu Karadeniz – Yukarı Kızılırmak
E) Konya – Ergene

2.



Kışların ılıman ve yağışlı yaz aylarının ise sıcak ve kurak geçtiği yerlerde yetişebilen bir tarım ürünü haritada işaretlenen yerlerin hangisinde en uygun yetiştirme ortamı bulunmaktadır ?

- A) I B) II C) III D) IV E) V

3. Sulama probleminin olmadığı ülkelerde tarımsal üretim miktarları fazla olmakla birlikte yıllara göre çok fazla dalgalanma yaşanmamaktadır. Sulama probleminin olduğu ülkelerde ise tarımsal ürün üretim miktarı az ve üretimde yıllara göre dalgalanmalar yaşanmaktadır. Aşağıdaki tabloda ekim alanları birbirine yakın ve yağış miktarları yıldan yıla değişiklik gösteren beş farklı ülkede yetiştirilen bir tarım ürününün 1999 – 2003 yılları arasındaki üretim miktarları gösterilmiştir.

Ülke	YILLAR				
	1999	2000	2001	2002	2003
I	17	14	10	14	16
II	26	19	17	27	23
III	30	29	29	30	32
IV	18	12	10	19	20
V	24	15	14	13	25

Yukarıdaki bilgilere göre bu beş ülkeden hangisinde tarımsal alanlarda sulama problemi en azdır?

- A) I B) II C) III D) IV E) V

4. Türkiye'de tarımla uğraşan insanların karşılaştığı en önemli sorun sulamadır.

Türkiye'de sulama sorununun tamamen çözüldüğü düşünülecek olursa aşağıdaki şehirlerin hangisinin tarım hayatında büyük değişikliklerin meydana geleceği söylenebilir?

- A) Adana B) Çanakkale C) Bursa
D) Rize E) Konya

5. Türkiye'de ekim alanlarının büyük bir bölümünün tahıllara ayrılmasının en önemli nedeni aşağıdakilerden hangisidir?

- A) Tahıl tüketiminin giderek artması
B) Sulama imkânlarının yeterince iyi olmaması
C) Tahıl tarımından elde edilen verimin ve gelirin fazla olması
D) Ürün çeşidinin az olması
E) Topraklarımızın verimli olması

6. Aşağıdaki ülkelerden hangisinde tarım alanlarında tahıl tarımına ayrılan alan iklim koşullarından dolayı daha azdır ?

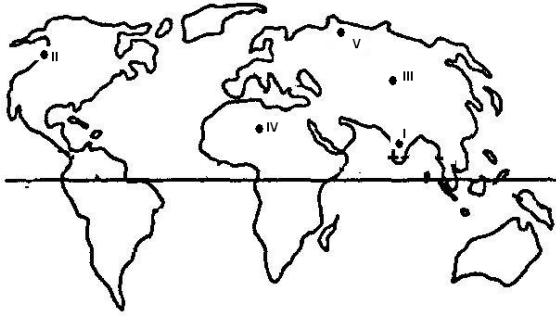
- A) İngiltere B) Fransa C) İtalya
D) Türkiye E) Yunanistan

7. İç Anadolu bölgesinde mısır ve ayçiçeği yerini buğday ve arpaya bırakmıştır.

Bu durumun nedeni aşağıdakilerden hangisidir?

- A) Halkın temel besin kaynağı olması
B) Olgunlaşma süresinin daha kısa olması
C) Tarımsal nüfus yoğunluğunun fazla olması
D) Makine kullanımının yaygın olması
E) Yağış miktarının az olması

8.



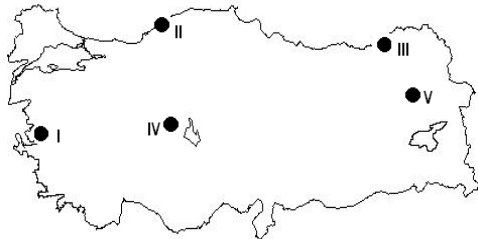
Yukarıdaki haritada işaretlenmiş yerlerin hangisinde pirinç üretimi diğerlerine göre **daha fazladır?**

- A) I B) II C) III D) IV E) V

9. Karadeniz bölgesinde mısır üretiminin buğday üretiminden fazla olmasını aşağıdakilerden hangisi ile açıklanabilir?

- A) Her mevsimin yağışlı olması ile
B) Tahıl tarımına ayrılan alanın sınırlı olmasıyla
C) Sulama olanaklarının yetersiz olmasıyla
D) Ekilebilir tarım alanlarının az olmasıyla
E) Tarım yapılabilecek alanın az olmasıyla

10.



Haritada işaretlenmiş yerlerin tarımsal özellikleri ile ilgili aşağıdaki bilgilerden hangisi **yanlıştır?**

- A) II ve III numaralı alanlar Türkiye'de mısır tarımının en fazla yapıldığı yerlerdir
B) I numaralı yerde tarımda sulama problemi oldukça azdır
C) IV numara ve V numara ile gösterilen yerlerde yağışların az olmasından dolayı tarımsal verim düşüktür
D) V numaralı yerde yaz sıcaklıklarının yetersiz olmasından dolayı sebze tarımı yaygın değildir
E) III numaralı yerde nem isteği fazla olan tarım ürünleri yetişmektedir

11. Aşağıdakilerden hangisi buğdayın üretim özellikleri arasında yer **almaz?**

- A) Ekim alanları en fazla olan tarım ürünleri arasında yer almaktadır
B) Büyüme döneminde serin ve yağışlı ortam istemektedir
C) Olgunlaşma döneminde sıcaklık ve kuraklık istemektedir
D) Toprağın sulanması verimi artırır
E) Ekim alanları kıyı bölgelerinde daha fazladır

12. Aşağıdakilerden hangisi artarsa buğday ekim alanları azaldığı halde buğday verimi daha çok artmaktadır?

- A) Gübre kullanımı B) Nöbetleşe ekim
C) Makine kullanımı D) Sulama
E) Nadas Alanları

13. Yetiştirme koşulları dikkate alındığında, buğday hasadı aşağıdaki ovaların hangisinde daha **önce** yapılmaktadır?

- A) Pasinler ovası B) Muş ovası
C) Amik ovası D) Eskişehir ovası
E) Gediz ovası

14. I. Nemli yamaçlarda
II. Denize yakın alanlarda
III. Sulak vadi tabanlarında
IV. Büyük şehirlerin çevresinde
V. Yarı kurak sahalarda

Ülkemizde buğday tarımı yukarıda verilen alanların hangisinde daha yaygın olarak yapılmaktadır?

- A) I B) II C) III D) IV E) V

15. Karadeniz bölgesinde mısır üretimi çok yaygındır. Hemen her yerde mısır üretilmektedir.

Karadeniz bölgesinde mısır üretimi çok yaygın olmasına rağmen ticari bakımdan önemli bir yerinin olmaması aşağıdakilerden hangisi ile açıklanabilir?

- A) Bölge halkının temel besin kaynağı olmasıyla
B) Üretilen mısırın kalitesiz olmasıyla
C) Mısır veriminin düşük olmasıyla
D) Ekonomik bakımdan pek fazla gelir getirmemesi
E) Dış satımının sınırlı olmasıyla

Türkiye’de tarım test no:4

- 1.D
2. D
3. C
4. E
- 5.B
- 6.A
- 7.E
- 8.A
- 9.A
- 10.A
- 11.E
- 12.D
- 13.C
- 14.E
15. A