

# COĞRAFYA KONUSU TESTİ

## KONU:TÜRKİYE'DE TARIM

TEST NO: 3

1. Arazinin dağlık ve engebeli olduğu yerlerde tarım alanlarında makine kullanımı zorlaşmaktadır.

**Aşağıdaki bölümlerin hangisinde tarımda makineleşme diğer yerlere göre daha azdır?**

- A) Çatalca – Kocaeli bölümü
- B) Konya Bölümü
- C) Orta Fırat Bölümü
- D) Yukarı Kızılırmak Bölümü
- E) Doğu Karadeniz Bölümü

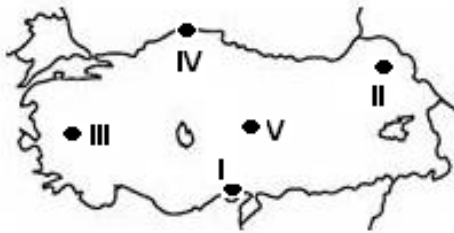
2. Aşağıdakilerden hangisi tarımın Türkiye ekonomisindeki yerini en az yansıtır?

- A) Milli gelirdeki payının yüksek olması
- B) Tarım sektöründe çalışan kişi sayısının fazla olması
- C) Tarımsal sanayinin gelişmiş olması
- D) Buğdayın her bölgede ekilmesi
- E) Tarım ürünleri ihracatının fazla olması

3. Baraj ve sulama kanallarının yapılması aşağıdakilerden hangisini azaltmıştır?

- A) Makine kullanımını
- B) Gübre kullanımını
- C) Nadasa bırakılan alanları
- D) Tarım alanlarını
- E) Kaliteli tohum kullanmayı

4. Türkiye'de buğday hasadı çeşitli yörelerde sıcaklığın etkisi ile farklı zamanlarda yapılmaktadır.



**Buna göre ,yukarıdaki haritada işaretlenen yerlerin hangisinde buğday hasadının en erken yapılması beklenir?**

- A) I
- B) II
- C) III
- D) IV
- E) V

5. Aşağıdakilerden hangisi Türkiye'de tarımsal üretimin artmasında dolaylı bir etkiye sahiptir?

- A) Destekleme alımlarının yapılması
- B) Sulama imkanlarının artması
- C) Gübrelemenin artması
- D) Kaliteli tohum kullanılması
- E) Makine kullanımının yaygınlaşması

6. Sıcaklık şartlarının uygun olduğu yerlerde sulama imkanlarının da geliştirilmesi sonucunda tarım alanlarından yılda birden fazla ürün alınabilmektedir.

**Buna göre aşağıdaki yerlerin hangisinde tarım alanlarından hangisi yılda iki kez ürün alama bakımından uygun şartlara sahip değildir?**

- A) Çukurova
- B) Antalya
- C) Menderes Ovası
- D) Gediz
- E) Konya Ovası

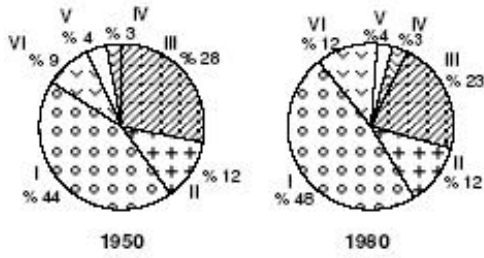
7. Aynı anda ekilen sebze ve meyvenin aşağıdaki alanların hangisinde daha geç olgunlaşması beklenir?

- A) Muş Ovası
- B) Antalya Ovası
- C) Bursa Ovası
- D) Harran Ovası
- E) Gediz Ovası

8. Bir ülkede tarım yapılan alanlarda bir değişme olmadığı halde tarımsal üretimde bir artış görülüyorsa bu ülke için aşağıdakilerden hangisini söylemek doğru olmaz?

- A) Sulama olanakları gelişmiştir
- B) Kaliteli tohum kullanılmaya başlamıştır
- C) Tarımda makine kullanımı artmıştır
- D) Nadasa ayrılan tarım alanları azalmıştır
- E) Ekstansif tarıma geçilmiştir

9. Altı bölgede, ekilen bir tarım ürününün 1950 – 1980 yılları üretimdeki payları verilmiştir.



**Yalnızca grafikteki bilgilerden yararlanarak aşağıdaki yargılardan hangisine ulaşılabılır?**

- A) I. Bölgenin üretimdeki payındaki artış IV. Bölgeden daha azdır  
 B) Tüm bölgelerde 30 yıllık dönem içerisinde üretimde artışlar görülmektedir  
 C) Üretimdeki paya göre yapılan sıralamada 1950 yılında en son sırada olan bölge 1980 yılında 5. sıraya çıkmıştır  
 D) Ülke içerisinde tarıma ayrılan toprakların en az olduğu bölge IV numara ile gösterilmiştir.  
 E) II, IV ve V. bölgelerin üretimdeki paylarında yıllara göre bir değişme olmamıştır
10. Aşağıda ekili dikili alanların bölgelere göre dağılışı (%) olarak verilmiştir.

Doğu Anadolu	10
Karadeniz	16
Akdeniz	18
Güneydoğu Anadolu	20
Ege	24
İç Anadolu	27
Marmara	30

**Bu duruma göre aşağıda yapılan yorumlardan hangisi doğrudur?**

- A) Yağış miktarının yüksek olduğu yerlerde ekili dikili alanların oranı artmaktadır  
 B) Ekili dikili alanların oranı bölgelerin alanlarına göre değişmektedir  
 C) Orman oranı en fazla olan bölgede ekili dikili alan oranı fazladır  
 D) Tüm kıyı bölgelerimizde ekili dikili alanların oranı fazladır  
 E) Engebelik alanlar azaldıkça ekili dikili alanların oranı artmaktadır
11. Tarım alanlarında gübreleme imkanlarının artmamsa rağmen verimin yıldan yıla değişmesinin temel nedeni aşağıdakilerden hangisidir?

- A) Pazarlama olanaklarının değişmesi  
 B) Üretim alanlarının azalması  
 C) Nüfusun hızla artması  
 D) Ürünlerin satış fiyatındaki dalgalanmaları  
 E) Tarımın iklim koşullarına bağlı kılması

12. Aşağıdaki illerden hangisi tarımda makine kullanımı için en elverişli şartlara sahiptir?

- A) Muğla B) Gaziantep C) Bitlis  
 D) Sinop E) Trabzon

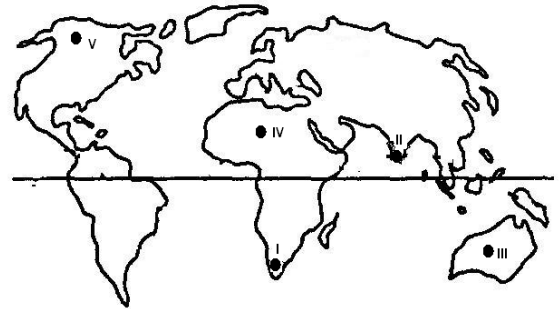
13. Önceleri nadas sistemiyle tahıl ekilen bir tarlaya, son yıllarda domates, biber ve patlıcan gibi ürünler ekilmeye başlanmıştır. Tarım alanlarında böyle bir değişime gidilmiş olmasının birincil nedeni aşağıdakilerden hangisidir?

- A) Gübre kullanımının artması  
 B) Nüfusun artması  
 C) Tarlalarda sulanan alanların genişlemesi  
 D) Sebze fiyatlarının artması  
 E) Sıcaklık ortalamalarının artması

14. İtalya, Fransa ve İspanya'nın güney kıyılarında yetişen bir tarım ürününün aşağıdaki yörelerin hangisinde yetişme olasılığı daha yüksektir?

- A) Ege Kıyılarındadır  
 B) İç Anadolu'dadır  
 C) Güneydoğu Anadolu ovalarında  
 D) Marmara'nın kuzey kıyılarındadır  
 E) Karadeniz kıyılarındadır

- 15.



Türkiye'de Marmara Bölgesi'nin güney bölümünde ve Ege Kıyılarındaki yetişme imkanı bulan bir tarım ürünü yukarıdaki haritada işaretlenen yerlerin hangisinde yetiştirilebilir?

- A) I B) II C) III D) IV E) V

**Türkiye’de tarım testno:3**

- 1.E
- 2.D
- 3.C
- 4.A
- 5.A
- 6.E
- 7.A
- 8.E
- 9.E
- 10.E
- 11.E
- 12.B
13. C
- 14.A
- 15.A