

COĞRAFYA KONU TESTİ

KONU:TÜRKİYEDE TARIM

TEST NO : 2

1. Türkiye'de tarım henüz tamamiyle makineleşmemiştir. Hayvan gücünden çok yerde yararlanılmaktadır.

Tarımın henüz makineleşmeyişi üzerinde aşağıdakilerden hangisi etkili değildir?

- A) Arazinin engebeli olması
- B) Makine fiyatlarının yüksek olması
- C) Kırsal alanlarda işgününün ucuz olması
- D) Küçük tarlaların yaygın olması
- E) Büyükbaş hayvanların fazla olması

2. Türkiye'de tarım alanlarında karşılaşılan en önemli sorun sulamadır.

Aşağıdakilerden hangisi bu sorunu çözmek için yapılma gereken en etkili yöntemdir?

- A) Tarımsal üretim alanlarını azaltmak
- B) Baraj sayısını çoğaltmak
- C) Meraların tarla haline çevirmek
- D) Akarsu boylarına kanallar açmak
- E) Kaynak sularını akarsulara akıtmak

3. **Aşağıdaki sorunlardan hangisinin çözülmesi öncelikle çözülmesi , Türkiye'de tarımsal üretimin doğal koşullarına olan bağımlılıktan kurtaracak ve nöbetleşe ekimi yaygınlaştıracaktır?**

- A) Gübreleme olanaklarının artırılması
- B) İyi cins tohumluk kullanılması
- C) Tarım ilaçlarının kullanımının yaygınlaştırılması
- D) Tarım aletlerinin kullanımının artması
- E) Sulama olanaklarının iyileştirilmesi

4. I. 0 – 40 Kuzey enlemleri
II. 10 – 25 Güney enlemleri
III. 25 – 35 Kuzey enlemleri
IV. 30 – 35 Güney enlemleri
V. 40 – 60 Güney enlemleri

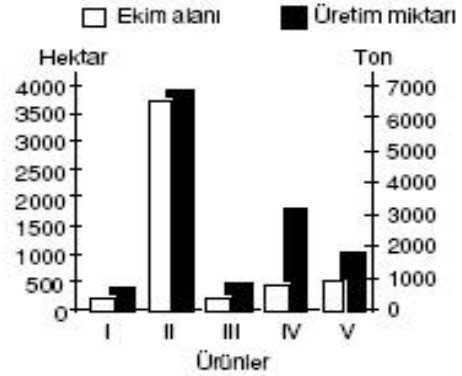
Yukarıda enlemleri verilen kara parçalarının özel konumlarının aynı olduğu düşünülürse hangisinde yetiştirilen ürün çeşidinin fazla olması beklenir?

- A) I B) II C) III D) IV E) V

5. **Türkiye'de ve Arjantin'de ekilen aynı cins buğdayın yılın farklı zamanlarında toplanmasının birincil nedeni aşağıdakilerden hangisidir ?**

- A) İklimlerinin farklı olması
- B) Boylamalarının farklı olma
- C) Buldukları yarımkürelerin farklı olması
- D) Yükselti ortalamalarının farklı olması
- E) Bitki türlerinin farklı olması

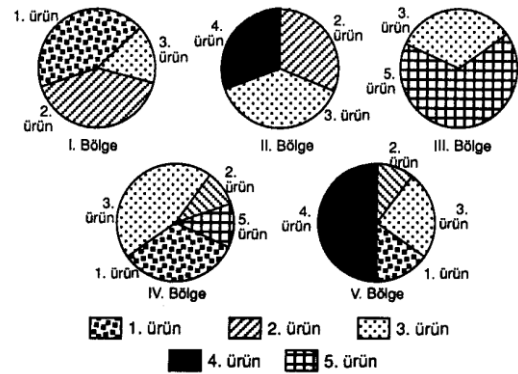
6.



Yukarıda ekim alanı ve üretim miktarı verilen beş bölgeden hangisinde tarım alanlarından birim başına alınan verim daha yüksektir?

- A) I B) II C) III D) IV E) V

7. **Aşağıda bir ülkede yetiştirilen beş tarım ürününün ülkedeki coğrafi bölgelere göre üretim miktarları gösterilmiştir.**



Bir tarım ürününün ,bir ülkedeki yetişme alanı ne kadar yaygınsa o ülke koşullarına uyumu o kadar iyi demektir.

Buna göre, hangi tarım ürününün ülkedeki doğal koşullara daha uyumlu olduğu söylenebilir ?

- A) I B) II C) III D) IV E) V

8. Türkiye'de tarım hayatının en göze çarpan özelliği çeşitliliğidir. **Aşağıdakilerden hangisi tarım ürünlerinin çok çeşitli olmasının en önemli nedenidir?**

A) İklimdeki değişiklik
B) Yağış rejimindeki değişiklik
C) Dört mevsimin görülmesi
D) Bitki örtüsündeki çeşitlilik
E) Yükselti farklılığı

9. Tarım kesiminde amaç birimde ürün verimini artırmaktır. **Aşağıdakilerden hangisi bu nedenle alınacak önlemlerden değildir?**

A) Islah edilmiş tohum kullanmak
B) Sulama sorununu çözmek
C) Ürün çeşidini fazlalaştırmak
D) Yeterince gübre kullanmak
E) Makineli tarıma geçmek

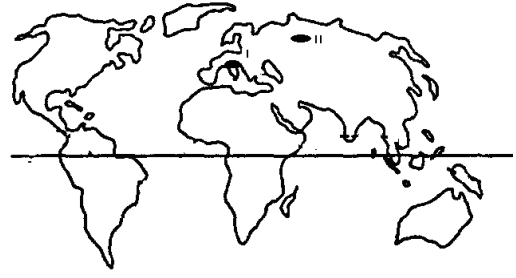
10.



Yukarıdaki haritada işaretlenen yerlerin tarımsal özellikleri ile ilgili aşağıda verilen bilgilerden hangisi doğru değildir?

- A) I numaralı yerdeki tarım alanlarında nadasa bırakma diğer bölgelere göre en azdır
B) Bir tarım ürününün ilk olgunlaştığı yer II numara ile gösterilmiştir
C) III numaralı yerde yetiştirilen tarım ürününün çeşitliliği II numaralı yere göre azdır
D) I numaralı yerde nem isteği fazla olan tarım ürünleri yetişmektedir
E) II numaralı yerde yıl içindeki tarım süresi diğer yerlere göre kısadır
11. **Aşağıdakilerden hangisi, bir bölgede sulama probleminin çözülmesi sonucunda ortaya çıkan durumlardan biridir?**
- A) Tarımsal üretimde azalmalar görülür
B) Nadas uygulanan alanlar azalır
C) Üretimde yılda yıla dalgalanmalar görülür
D) Buğday tarımı yapılan tarım alanların oranı artar
E) Nem isteği az olan tarım ürünleri yetişmeye başlar

12.



Yukarıdaki Dünya haritasında I. Bölgede yetiştirilen tarım ürünlerinin olgunlaşma süresi II. Bölgeye göre daha kısadır.

Bu durumun ortaya çıkmasında aşağıdakilerden hangisinin etkisi en fazladır?

A) Özel konumlarının farklılığı
B) Kapladıkları alanların farklı olması
C) Matematik konumlarının farklı olması
D) Toprak türlerinin farklı olması
E) Ülkelerin gelişmişlik seviyeleri

13. **Aşağıdakilerden hangisi tarımda makineleşmenin bir sonucudur?**

A) Tarım alanlarında birim başına alınan verim azalmaktadır
B) Hasat döneminde üründe görülen kayıpların azalması
C) Zamandan tasarruf sağlanmaktadır
D) Hayvan gücüne duyulan gereksinim azalmaktadır
E) İşsizlik oranını azaltarak iç göçlere neden olmaktadır

14. Bir yöredeki tarımsal etkinlikler üzerinde yükselti, enlemi karasallık gibi bir çok faktör etkili olmaktadır.

Aşağıdaki verilen tarımsal özelliklerin hangisi üzerinde enlemin etkili olduğu söylenebilir?

A) Doğu Anadolu'da yetişen tarım ürünü sayısının Ege Bölgesinden az olması
B) Karadeniz bölgesinde pamuk ve buğday tarımının yapılamaması
C) İç Anadolu bölgesinde nadas alanlarının yaygın olması
D) Akdeniz bölgesinde yetişen pamuğun Ege Bölgesine göre daha çabuk olgunlaşması
E) Marmara Bölgesinde pirinç ekim alanlarının bulunması

Türkiye’de tarım test no:2

- 1.E
- 2.B
- 3.E
- 4.A
- 5.C
- 6.D
- 7.C
- 8.A
- 9.C
- 10.E
- 11.B
- 12.C
- 13.A
- 14.D