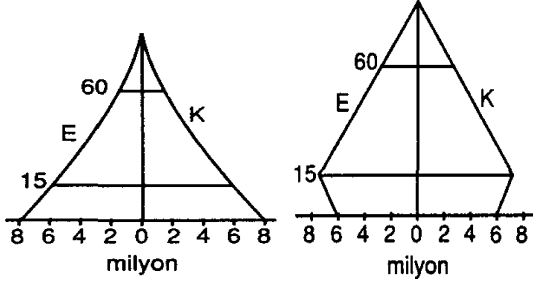


# COĞRAFYA KONU TESTİ

KONU: NÜFUS ÖZELLİKLERİ

TEST NO : 12

1.



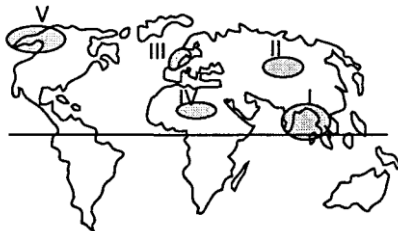
Bir ülkede nüfus yapısı son elli yılda I. şekilden II. şekle ulaştığına göre bu ülke ile ilgili olarak aşağıdaki yargılardan hangisine ulaşılamaz ?

- A) Ülkede sanayide çalışanların sayısında artışlar yaşanmıştır  
 B) Ülkede tarım alanlarından birim başına alınan verim azalmıştır  
 C) Doğum oranları her yıl bir önceki yıla göre azalmıştır  
 D) Yaşlı nüfusun genel nüfusa oranı artışlar yaşanmıştır  
 E) Ülkede ihracat edilen maddelerin cinsi değişmiştir
2. Doğu Karadeniz'de dağınık , Konya Bölümünde ise toplu yerleşmelerin yaygın olmasında ;

- I. Matematik konum  
 II. Yer şekilleri  
 III. İklim  
 IV. Yer altı kaynakları

gibi özelliklerden hangilerinin farklı olması etkili olmuştur ?

- A) Yalnız I      B) Yalnız II      C) I ve III  
 D) II ve III      E) III ve IV
3. Aşağıdakilerden hangisi , bir ülkenin gelişmişliği hakkında bilgi vermez ?
- A) Doğal kaynakların tüketim miktarı  
 B) Doğum oranının oranı  
 C) Kırsal ve kent nüfus oranları  
 D) Aritmetik nüfus yoğunluğu  
 E) İthal edilen malların cinsi
- 4.



Yukarıdaki taralı alanların hangileri Dünya'nın en kalabalık yerleridir?

- A) I – II      B) I – III      C) I – IV  
 D) I – V      E) II – III – IV

5. Dünya nüfusu son kırk yılda 3 milyardan 5,5 milyara çıkmıştır. Aşağıdakilerden hangisi bunun nedenlerinden değildir?

- A) Sağlık hizmetlerinin gelişmesi  
 B) Bilinçli yaşam, bilinçli beslenme  
 C) Gelişmiş ülkelerde ölüm oranının azlığı  
 D) Gelişmemiş ülkelerde doğum oranının fazlalığı  
 E) Gelişmiş ülkelere göç edenlerin fazlalığı

6. Dünya üzerinde nüfus dağılışı incelendiğinde bazı yerlerde nüfusun yoğun bazı yerlerde seyrek olduğu görülür. Aşağıdakilerden hangisinin nüfusun farklı dağılışında etkisi en azdır?

- A) Yer şekilleri  
 B) İklim  
 C) Yer altı zenginlikleri  
 D) Doğal güzellikler  
 E) İş olanakları

7. Aşağıdakilerden hangisi hızlı nüfus artışının olumsuz sonuçlarından değildir?

- A) Kişi başına düşen milli gelir azalır.  
 B) İşgücü açığı olmaz.  
 C) Tüketim çoğalır.  
 D) İhracat azalır.  
 E) Göçler artar.

	Nüfus Yoğunluğu	Yüzölçümü km <sup>2</sup>
8. Romanya	96	273.000
Yugoslavya	91	255.804
İtalya	190	301.249

Yukarıdaki üç ülkenin nüfus yoğunlukları ve yüz ölçümleri verilmiştir.

Bu ülkelerin nüfuslarının çoktan aza doğru sıralanışı aşağıdakilerden hangisidir?

- A) Romanya, İtalya, Yugoslavya  
 B) Yugoslavya, İtalya, Romanya  
 C) İtalya, Romanya, Yugoslavya  
 D) Yugoslavya, Romanya, İtalya  
 E) İtalya, Yugoslavya, Romanya

9. Aşağıdaki iklim bölgelerinden hangilerinde nüfus azdır?

- I. Ekvatorial  
 II. Çöl  
 III. Kutup  
 IV. Akdeniz  
 V. Karasal step

- A) I – V      B) II – III – IV  
 C) I – II – III      D) II – IV  
 E) III – V

10. Orta kuşakta nüfus alçak düzlüklerde yoğunlaşırken, Ekvatorial bölgede yüksek yerlerde yerleşilir.

Aşağıdakilerden hangisi bu durumun temel nedenidir?

- A) Düzlük yerlerin azlığı
- B) Toprağın verimliliği
- C) Ulaşımın kolaylığı
- D) Sıcaklık ve nemin azalması
- E) Yeraltı kaynaklarının zenginliği

11. Aşağıdakilerden hangisi gelişmemiş bir ülkenin gösterdiği nüfus özelliklerinden değildir?

- A) Doğum oranı yüksek
- B) Ölüm oranı yüksek
- C) Okuma-yazma oranı düşük
- D) Çalışma yaşı küçük
- E) Çalışan kadın sayısı fazla

12. Gelişmiş ülkelerde nüfus artış hızının az olmasında aşağıdakilerden hangisinin etkisi yoktur?

- A) Kadının çalışması
- B) Çocuğa iyi bir gelecek sağlayabilmek isteği
- C) Gelir düzeyinin düşük olmaması
- D) Kontrollü doğum yapılması
- E) Evlenme yaşının büyümesi

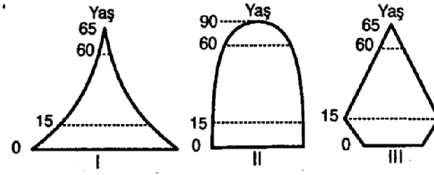
13. Bir ülkede nüfus dağılışı genelde yer şekillerine bağlı ise, bu ülke ile ilgili olarak aşağıdaki yorumlardan hangisi doğru olur?

- A) Alanı küçüktür.
- B) Nüfusu yoğundur.
- C) Endüstrisi gelişmiştir.
- D) Ekonomisi tarıma dayalıdır.
- E) İhracat geliri yüksektir.

14. Aşağıda özellikleri verilen kentlerden hangisi yerleşik göç alabilecek nitelikte olmaz?

- A) Liman kentleri
- B) Endüstri kentleri
- C) Maden çıkarma ve işleme kentleri
- D) Eğitim kentleri
- E) Kaplıca kentleri

15.



Yukarıdaki yaş pramitlerinin ülkelerin gelişme seviyelerine göre doğru sıralanışı aşağıdakilerden hangisidir?

	Gelişmiş	Gelişmekte olan	Az gelişmiş
A)	I	II	III
B)	III	I	II
C)	II	III	I
D)	II	I	III
E)	I	III	II

16. Dünya nüfusunun çoğunluğunun Kuzey yarımkürede toplanmasının temel nedeni aşağıdakilerden hangisidir?

- A) Daha sıcak olması
- B) Sanayinin çok gelişmesi
- C) Yer şekillerinin sade olması
- D) Topraklarının verimli olması
- E) Orman alanlarının geniş olması

17. Aşağıdaki ifadelerden hangisi tarımsal nüfus yoğunluğunun ifadesidir?

- A) Nüfusun tarım alanlarına oranıdır.
- B) Çiftçi nüfusunun tarım alanlarına oranıdır.
- C) Nüfusun ülke yüz ölçümüne oranıdır.
- D) Çiftçi nüfusunun ülke yüz ölçümüne oranıdır.
- E) Tarım alanlarının ülke alanına oranıdır.

18. Bir ülkede nüfusun hızlı artışı sorun yaratmıyorsa, bunun temel nedeni aşağıdakilerden hangisi olur?

- A) Ülkenin geniş olması
- B) Temel ihtiyaçların karşılanması
- C) Dış ülkelere göç edilmesi
- D) Ülke içinde nüfusun dengeli dağılması
- E) Genç nüfusun olgun nüfustan fazla olması

**Nüfus ve yerleşme test no:12**

- 1.B
- 2.D
- 3.D
- 4.B
- 5.E
- 6.D
- 7.B
- 8.B
- 9.C
- 10.D
- 11.E
- 12.C
- 13.D
- 14.D
- 15.C
- 16.B
- 17.B
- 18.B