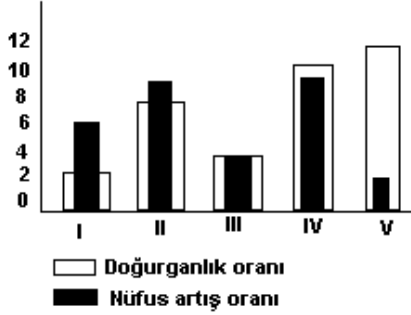


# COĞRAFYA KONU TESTİ

## KONU: NÜFUS ÖZELLİKLERİ

TEST NO : 4

1. Aşağıdaki grafikte Türkiye’de yer alan beş kentin doğurganlık ve nüfus artış oranları verilmiştir.



Grafikte verilen bilgilerden yararlanarak aşağıdaki genellemelerden hangisine ulaşamaz ?

- A) En fazla göç verme oranı V. Kente aittir  
 B) I. ve II. Kentlerin nüfus artışlarında kent dışından alınan göçlerin etkisi belirgindir  
 C) I. ve IV. Kentlerin toplam nüfusu III. kentten fazladır  
 D) IV. Kentteki nüfus artışı doğurganlık oranıyla ilgilidir  
 E) I. kentin nüfus artış oranı V. Kentten daha yüksektir
2. Aritmetik nüfus yoğunluğu bir yerde yaşayan toplam nüfusun , o yerin yüzölçümüne bölünmesiyle bulunur. Toplam nüfusun az, yüzölçümünün fazla olması aritmetik nüfus yoğunluğunun düşük olmasına yol açar. Aşağıdaki tabloda beş farklı ülkenin nüfus miktarı ve yüzölçümleri gösterilmiştir.

| Ülke | Nüfus miktarı (milyon) | Yüzölçümü (bin/km <sup>2</sup> ) |
|------|------------------------|----------------------------------|
| I    | 17                     | 135                              |
| II   | 15                     | 142                              |
| III  | 16                     | 124                              |
| IV   | 19                     | 110                              |
| V    | 19                     | 128                              |

Buna göre, verilen ülkelerin hangisinde aritmetik nüfus yoğunluğunu daha fazladır ?

- A) I    B) II    C) III    D) IV    E) V
3. Bir ülkede nüfus artış hızının fazla olmasının aşağıdakilerden hangisi üzerinde en az etkili olması beklenir ?

- A) Kişi başına düşen milli gelir  
 B) Kadın-erkek nüfus oranları  
 C) İşsizlik oranları  
 D) Kalkınma hızı  
 E) Sanayi tesislerinin sayısı

4. Bir ülke nüfusunun yaşlı olması ;

- I. Sağlık hizmetlerinin gelişmiş olması  
 II. Dış göç oranının yüksek olması  
 III. Nüfus artış hızının düşük olması  
 IV. Eğitim düzeyinin düşük olması


koşullarından hangilerinin birlikte var olmasının kesin sonucudur ?

- A) I ve II    B) II ve III    C) III ve IV  
 D) I ve IV    E) I ve III

5. Aşağıdakilerden hangisi sanayi sektöründe çalışan nüfusun diğer sektörlerde göre daha az olduğu ülkelerin özelliklerinden biri değildir ?

- A) Ülkede işsizlik oranı yüksektir.  
 B) Bölgeler arası nüfus dengesizliği fazladır.  
 C) Tarımsal ürünlerde verim yüksektir  
 D) Dış ülkelere hammadde satışı fazladır  
 E) Nüfus artış hızı fazladır

6. Bir bölgenin nüfuslanmasında iklim ve yerçekillerinin elverişliliği , ulaşım olanaklarının yeterliliği , tarım alanlarının verimliliği endüstrinin gelişmişliği gibi etmenler rol oynamaktadır.



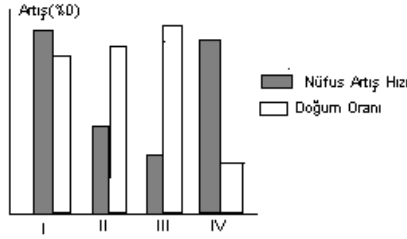
Buna göre , haritada işaretlenmiş yerlerin hangisinin nüfuslanmasında bu etmenlerin tümü etkili olmuştur ?

- A) I    B) II    C) III    D) IV    E) V

7. Türkiye’de dağların güney yamaçları kuzey yamaçlarına göre daha sık nüfuslanmıştır. Aşağıda verilenlerden hangisi bu durumun ortaya çıkmasında temel etken olmuştur ?

- A) Dağların uzanış doğrultuları  
 B) Türkiye’nin dönenceler dışında yer alması  
 C) Güney yamaçlarda sıcaklık ortalamasının kuzeye göre daha fazla olması  
 D) Yükselti ortalamasının doğuya doğru gittikçe artmaya başlaması  
 E) Sıcaklık ortalamasının haziran ve temmuz aylarında yüksek olması

8. Aşağıdaki grafik bir ülkenin dört bölgesine ait doğum ve nüfus artış oranlarını göstermektedir.



Bu grafiğe dayanara aşağıdaki genellemelerden hangisine ulaşılabilir ?

- A) II. ve IV. bölgelerde doğurganlık oranı en azdır  
 B) II. ve III. bölgelerde nüfus artışı sadece bölgeye olan göçlerle açıklanabilir  
 C) II. bölgedeki nüfus yoğunluğu IV. Bölgeden daha fazladır  
 D) Diğerlerine göre bölge dışına en fazla göç verme oranı III. bölgeye aittir  
 E) I. bölgenin toplam nüfus sayısı diğer bölgelerden fazladır
9. Aşağıdaki tabloda Türkiye’de çalışan nüfusun değişik yıllarda iş kollarına göre dağılışı oranları gösterilmiştir.

| Yıllar | Tarım | Sanayi | Hizmetler |
|--------|-------|--------|-----------|
| 1990   | 49,3  | 15,5   | 35,2      |
| 1980   | 62,5  | 11,6   | 25,9      |
| 1970   | 70,2  | 10,2   | 19,8      |
| 1960   | 74,9  | 7,5    | 17,6      |

Bu tablodaki bilgiler kullanılarak aşağıdakilerden hangisine ulaşılabilir ?

- A) Tarımla uğraşan nüfus miktarı azalmıştır  
 B) Türkiye tarım ürünleri ithal etmektedir  
 C) Sanayide dışa bağımlılık azalmaktadır  
 D) 1980’den sonra sanayide çalışan nüfus oranında artış fazladır  
 E) Nüfusun iş kollarına göre dağılımında 1960 yılı diğer yıllara göre daha düzenlidir
10. I. Ekvatorial iklim  
 II. Çöl  
 III. Kutup  
 IV. Akdeniz  
 V. Karasal Step

Yukarıdaki iklim tiplerinden hangisinin yaygın olduğu yerlerde nüfus miktarı daha azdır ?

- A) I – V      B) II – III – IV      C) I – II – III  
 D) II – IV      E) III – V

11. Dünya nüfusu son kırk yılda 3 milyardan 5,5 milyara çıkmıştır. Aşağıdakilerden hangisi bu durumun nedenleri arasında yer almaz ?

- A) Sağlık hizmetlerinin gelişmiş olması  
 B) Bilinçli yaşam bilinçli beslenme  
 C) Gelişmiş ülkelerde ölüm oranının azlığı  
 D) Gelişmemiş ülkelerde doğum oranının fazlalığı  
 E) Gelişmiş ülkelere göç edenlerin fazlalığı

12. Dünya nüfusunun her yerde farklı olmasında aşağıdakilerden hangisinin bir etkisi yoktur?

- A) Yer şekilleri      B) İklim  
 C) Yer altı zenginlikleri      D) Doğal güzellikler  
 E) İş olanakları

13. Aşağıdakilerden hangisi hızlı nüfus artışının yarattığı olumsuz sonuçlarından değildir?

- A) İş gücü açığı olmaz  
 B) Kişi başına düşen milli gelir azalır  
 C) Tüketim çoğalır  
 D) İhracat azalır  
 E) Göçler artar

14. Aşağıdakilerden hangisi Türkiye’nin nüfusuna ait özellikler arasında yer almaz ?

- A) Doğum oranı yüksektir  
 B) Tüketici nüfus oranı azdır  
 C) Genç nüfus fazladır  
 D) Üniversite bitiren nüfus azdır  
 E) Çalışan etkin nüfus azdır

- 15.



Yukarıdaki dünya haritası üzerinde işaretlenen yerlerin nüfus özellikleri ile ilgili aşağıdaki yargılardan hangisi yanlıştır ?

- A) I. ve II. bölgede nüfus deniz seviyesinden yüksek yerlerde daha fazladır  
 B) III numaralı bölgede nüfusun da az olmasına yol açmıştır  
 C) V numaralı bölgede nüfusun artmasında göçlerin etkisi daha fazladır  
 D) IV numaralı bölgede havanın sıcak olmasından dolayı nüfus azdır  
 E) V numaralı bölgede doğum oranı diğer yerlere göre daha azdır

**Nüfus ve yerleşme test no:4**

- 1.C
- 2.D
- 3.B
- 4.E
- 5.C
- 6.A
- 7.C
- 8.D
- 9.D
- 10.C
- 11.E
- 12.D
- 13.A
- 14.B
- 15.D