

# COĞRAFYA KONU TESTİ

## KONU: NÜFUS ÖZELLİKLERİ

TEST NO : 10

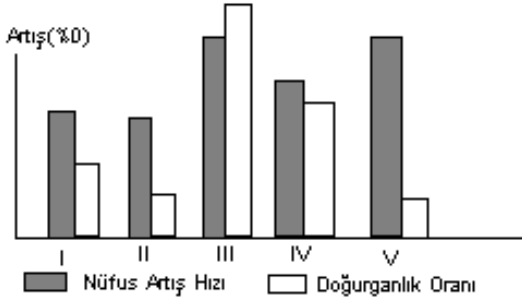
1. Aşağıdakilerden hangisi nüfusun yeryüzünde dağılımını belirleyen etmenlerden biri değildir?

- A) Yüzey şekilleri  
B) Enlem  
C) İklim  
D) Boylam  
E) Bitki örtüsü

2. Aşağıdakilerden hangisi Türkiye'de nüfusun hızla artmasının nedenlerinden biri değildir?

- A) Kırdan kentte göçün fazla olması  
B) Salgın hastalıkların azalması  
C) Doğum oranının yüksek olması  
D) Eğitim seviyesinin düşük olması  
E) Sağlık koşullarının gelişmesi

3. Aşağıda bir ülkede yer alan beş farklı bölgeye ait nüfus artış hızları ve doğurganlık oranları verilmiştir.



Bu ülke ile ilgili aşağıdaki yargılardan hangisi yanlıştır ?

- A) I. ve II. Bölgedeki toplam doğurganlık oranı III. Bölgeden daha azdır  
B) V. Bölge dış göç aldığı için nüfus artış hızı fazladır  
C) IV. Bölgede nüfus artış hızının yüksek olmasında doğumların da etkisi görülmektedir  
D) III. Bölgede doğum oranı fazladır ve başka bölgelere göç vermektedir  
E) III. Bölgenin nüfusu diğer bölgelerin toplamından fazladır

4. Aşağıdakilerden hangisi bir ülkede plansız kentleşmenin kantı olabilir ?

- A) Sanayi kuruluşlarının kent dışında yer alması  
B) Kentlerde konut sıkıntısının olmaması  
C) Gecekondu semlerinin artması  
D) Yatırımların ülke içinde dengeli bir biçimde dağılması  
E) Organize sanayi bölgelerinin sayısının fazla olması

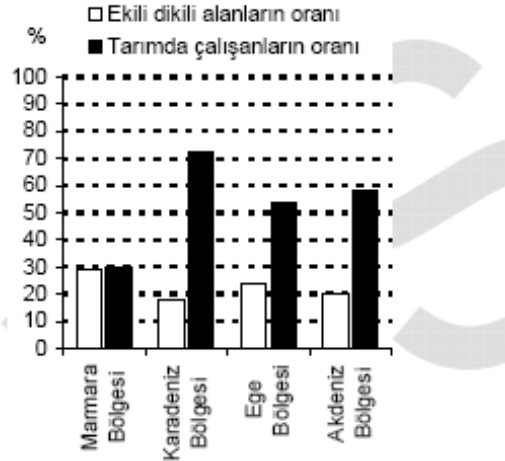
5. Bir ülkenin ;

- I. Okul çağındaki nüfusunun fazla olması  
II. Yaşlı nüfusunun fazla olması  
III. Çalışan nüfusun yaş ortalamasının düşük olması

gibi özelliklerden hangileri , genç nüfuslu olduğunun göstergesidir ?

- A) Yalnız I  
B) Yalnız II  
C) Yalnız III  
D) I ve II  
E) I ve III

6. Aşağıdaki grafik Türkiye'nin kıyı bölgelerinde ekili dikili alanların bölge yüzölçümlerine oranlarını ve etkin nüfus içinde tarımda çalışanların oranlarını yüzde olarak göstermektedir.



Yalnızca bu grafiğe dayanarak aşağıdaki yargılardan hangisine ulaşamaz ?

- A) Marmara bölgesinde ekili dikili alanların oranı Karadeniz bölgesinden fazladır  
B) Tarımda çalışanların oranı en fazla Karadeniz bölgesindedir  
C) Tüm kıyı bölgelerimizde tarımda çalışanların sayısı iç bölgelerden daha azdır  
D) Kıyı bölgelerimizde ekili dikili alanların oranları genellikle birbirine yakındır  
E) Tarımda çalışanlarının oranının en az olduğu bölge Marmara'dır

7. Aşağıdaki kentlerin hangisinde nüfus artışı ile sanayileşme arasında paralellik sözü konusu değildir ?

- A) İzmit  
B) İstanbul  
C) Trabzon  
D) İzmir  
E) Adana

8. Dünya genelinde nüfusun dağılışı ile ilgili aşağıdaki bilgilerden hangisi **yanlıştır** ?

- A) Orta kuşakta yer alan ülkelerde yüksek platolarda nüfuslanma azdır
- B) Sıcak ve nemli iklim nedeni ile ekvator ve çevresinde nüfus miktarı fazladır
- C) Güneydoğu Asya'da ırmak boylarında nüfus miktarı fazladır
- D) Avrupa kıtasında nüfusun artmasında sanayinin etkisi fazladır
- E) Kutuplara doğru sıcaklığın etkisi ile nüfus miktarı azalmaktadır

9.



Yukarıdaki Türkiye haritası üzerinde işaretlenen yerlerin nüfus özellikleri ile ilgili aşağıdaki bilgilerden hangini söyleyebiliriz?

- A) II ve III numaralı yerlerde nüfusun artmasında tarım önemli bir etken olmuştur
- B) IV numaralı yerde maden kaynaklarının bol olması nüfusun artmasına neden olmuştur
- C) I numaralı kentte nüfuslanmanın fazla olmasında ana ulaşım yolları üzerinde bulunması etkili olmuştur
- D) V numaralı yerde sanayinin fazla olması nedeniyle nüfus miktarı artmıştır
- E) I ve V numaralı kentlere doğru ekonomik nedenli göçler fazladır

10. Nüfus artışı tüm dünyanın ortak sorunu olmakla birlikte, az gelişmiş ülkelerde daha köklü sorunlara yol açmaktadır.

Aşağıdakilerden hangisi, az gelişmiş ülkelerde nüfus artışının yarattığı bir sorun **değildir** ?

- A) Kalifiye elaman sayısının artması
- B) İşsizlik sorununun yaşanması
- C) Düzensiz yapılaşmanın ortaya çıkması
- D) Miras yolu ile tarlaların bölünmesi
- E) Altyapının yetersiz hale gelmesi

11. Aşağıdakilerden hangisi göçlerin nedenleri arasında yer **almaz** ?

- A) Savaşlar sonucunda sınırların değişmesi
- B) Nüfus yoğunluğunun artması
- C) Salgın hastalıkların baş göstermesi
- D) Tarımda makineleşme
- E) Doğal felaketlerin görülmesi

12. Aşağıdaki tabloda kıtaların ve dünyanın ortalama nüfus artış oranları verilmiştir.

Kıtalar	Nüfus Artış Oranları
Avrupa	%o 2
Okyanusya	%o 14
Asya	%o 18
Amerika	%o 29
Afrika	%o 30
Dünya	%o 17


Bu tablodan yararlanarak aşağıdaki sonuçlardan hangisine **ulaşamayız** ?

- A) En az nüfus artışı Avrupa kıtasındadır
- B) Afrika ülkelerinde nüfus piramidinin tabanı geniştir
- C) Amerika'da nüfus artışı dünya ortalamasının altındadır
- D) Asya kıtasındaki nüfus artışı dünya ortalamasına yakındır
- E) Avrupa kıtasında yaşlı nüfusun oranı fazladır

13. Aşağıdakilerden hangisi göçlerin bir sonucu **değildir** ?

- A) Ülke genelinde nüfus dağılımında dengesizlik ortaya çıkar
- B) Kentlerde konut sıkıntısı ortaya çıkar
- C) Kırsal alanlarda nüfus miktarlarında azalmalar görülür
- D) Devlet yatırımları kırsal alanlara doğru kayar
- E) Şehirlerde işsiz sayısında artışlar yaşanır

14. Aşağıda nüfusun yaş gruplarına göre dağılımı verilen ülkelerden hangisinde genç nüfus oranı **en fazladır** ?



**Nüfus ve yerleşme test no:10**

- 1.D
- 2.A
- 3.E
- 4.C
- 5.E
- 6.C
- 7.C
- 8.B
- 9.C
- 10.A
- 11.C
- 12.C
- 13.D
- 14.C