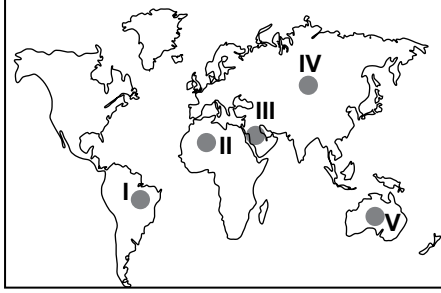


SINIF Rüzgarlar ve Oluşturduğu Yeryüzü Şekilleri

1. Rüzgarların aşındırma ve biriktirme faaliyetleri, kurak ve yarı kurak iklim bölgelerinde diğer iklim bölgelerine göre daha yoğundur.



Buna göre harita üzerinde numaralandırılarak verilen yerlerin hangisinde rüzgarların aşındırma ve biriktirme faaliyetleri diğerlerine göre **daha azdır** ?

- A) I B) II C) III D) IV E) V

2. I. Yıllık yağış miktarı 1000 mm'den azdır.
II. Yıllık ve günlük sıcaklık farkları fazladır.
III. Bitki örtüsü cılızdır.

Rüzgarların aşındırma ve biriktirme faaliyetlerinin yoğun olduğu yerlerin ortak özelliği olarak yukarıda verilenlerden hangileri gösterilebilir?

- A) Yalnız I B) I. ve II. C) I. ve III.
D) II. ve III. E) I., II. ve III.

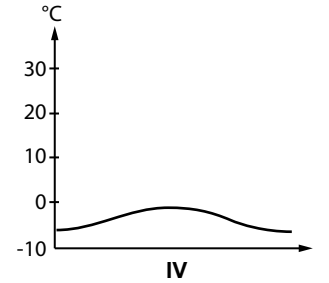
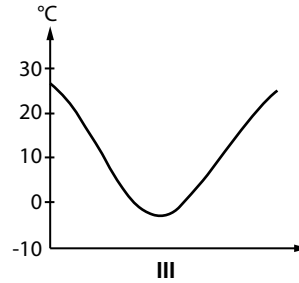
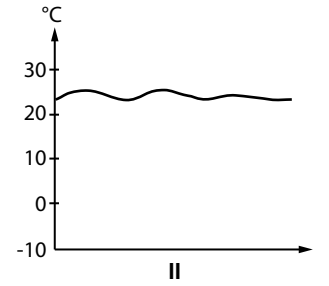
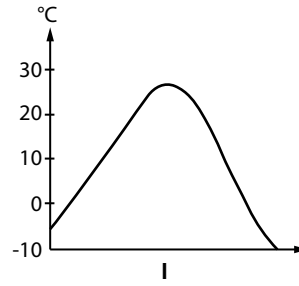
3. Aşağıda verilen iklim tiplerinden hangisinin görüldüğü yerlerde rüzgarların aşındırma ve biriktirme faaliyetleri diğerlerine göre daha fazla etkili olmaktadır?

- A) Savan iklimi B) Akdeniz iklimi
C) Okyanusal iklim D) Ekvatorial iklim
E) Çöl iklimi

4. Aşağıdaki yer şekillerinden hangisi rüzgar aşındırma şekillerinden biridir?

- A) Lös
B) Barkan
C) Tombolo
D) Mantarkaya
E) Hörgüçkaya

5. Aşağıda bazı yerlere ait yıllık ortalama sıcaklıkların dağılışı grafikleri verilmiştir.



Bu grafiklerden hangilerinin ait olduğu yerlerde rüzgarların aşındırma ve biriktirme faaliyetlerinin diğerlerine göre daha fazla etkili olması beklenir?

- A) I. ve II. B) I. ve III. C) II. ve III.
D) II. ve IV. E) III. ve IV.

6. Aşağıdaki yer şekillerinden hangisinin oluşumu üzerinde rüzgarların **dolaylı** yoldan etkisi bulunmaktadır?

- A) Barkan
B) Lapy
C) Falez
D) Peneplen
E) Hörgüç kaya

Rüzgarlar ve Oluşturduğu Yeryüzü Şekilleri

7. Rüzgarların aşındırıp taşıyarak biriktirdiği malzemelere ne ad verilir?

- A) Moren
- B) Alüvyal
- C) Lös
- D) Plaj
- E) Kayaç

8. Kurak ve yarı kurak bölgelerde kayaların alt kısımlarının rüzgarlar tarafından aşındırılması sonucu oluşan yer şekline ne ad verilir?

- A) Lös
- B) Tafoni
- C) Kumullar
- D) Mantar kaya
- E) Hörgüç kaya

9. Suda çözünebilir kayaçların bulunduğu yerlerde kayaçların çözünen kısımlarının rüzgar tarafından aşındırılması sonucu oluşan kovuklara ne ad verilir?

- A) Mantar kaya
- B) Barkan
- C) Lös
- D) Tafoni
- E) Şahit kaya

10. Aşağıda verilen yerlerin hangisinde rüzgarların aşındırma ve biriktirme faaliyetleri diğerlerine göre daha az etkilidir?

- A) Orta Asya
- B) Batı Avrupa
- C) Kuzey Afrika
- D) Güney Amerika
- E) Avustralya Kıtası'nın iç kesimleri

11. I. Yer şekillerinin engebeli olması
II. Toprağın nem oranının düşük olması
III. Rüzgarların esme sıklığının fazla olması

Rüzgarların aşındırma, taşıma ve biriktirme faaliyetleri üzerinde yukarıda verilenlerden hangileri etkili olmaktadır?

- A) Yalnız I
- B) I. ve II.
- C) I. ve III.
- D) II. ve III.
- E) I., II. ve III.

12. • Yıllık yağış miktarı fazladır.

• Bitki örtüsü geniş yapraklı ağaçların oluşturduğu ormanlardan oluşur.

Yukarıda bazı özellikleri verilen yerde aşağıda verilen yer şekillerinden hangisinin oluşma ihtimali diğerlerine göre daha düşüktür?

- A) Barkan
- B) Delta ovası
- C) Çentik vadi
- D) Menderes
- E) Peneplen



Adı :

Soyadı :

Sınıf :

NO :

1	2	3	4	5	6	7	8	9	10	11	12
A	A	A	A	A	A	A	A	A	A	A	A
B	B	B	B	B	B	B	B	B	B	B	B
C	C	C	C	C	C	C	C	C	C	C	C
D	D	D	D	D	D	D	D	D	D	D	D
E	E	E	E	E	E	E	E	E	E	E	E

Doğru :

Yanlış :

Boş :

Puan :