

SINIF Küresel Ticaret: Hammadde, Üretim, Pazar

1. Uluslararası sınırlar arasında yapılan mal ve hizmet ticaretine küresel ticaret denir. Küresel ticaret hammadde, üretim ve pazar unsurlarından oluşmaktadır. Bu unsurlar arasında sürekli bir etkileşim vardır.

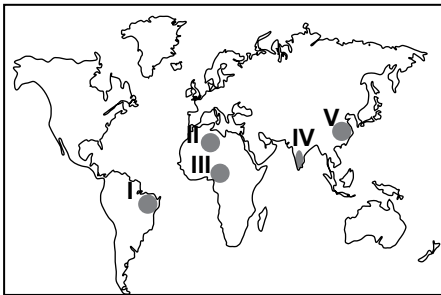
Aşağıdakilerden hangisinin küresel ticaretin gelişmesi üzerinde etkili olduğu söylenemez?

- A) Hammadde bölgeleri ile sanayi bölgelerinin birbirine yakın olmaması
- B) Ülkeler arasında üretilen ürünlerin farklılık göstermesi
- C) Nüfus artışına bağlı olarak tüketimin artış göstermesi
- D) Devletler arasında sıcak çatışmaların yaşanması
- E) İletişim teknolojilerinin hızla gelişmesi

2. Aşağıda verilen yerlerin hangisi diğerlerine göre daha fazla enerji tüketmektedir?

- A) Rusya
- B) Portekiz
- C) Mısır
- D) Moğolistan
- E) İran

3.

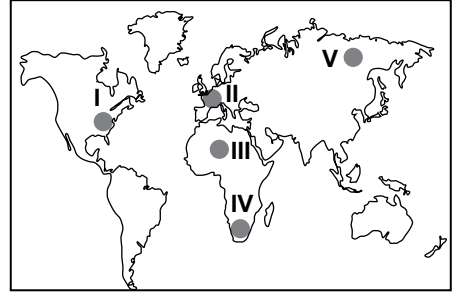


Sanayi tesislerinde kullanılmaya başlanmamış ya da yarı işlenmiş maddelere hammadde denir.

Haritada gösterilen yerlerin hangisi önemli tarımsal hammadde üretim alanlarından biri değildir?

- A) I
- B) II
- C) III
- D) IV
- E) V

4.



Ticaretin yoğunlaştığı bölgeler o bölgelerde bulunan ülkelerin gelişmişlik seviyelerine göre değişmektedir.

Buna göre haritada işaretli yerlerin hangi ikisi arasındaki ticaret kapasitesi diğerlerine göre daha fazladır?

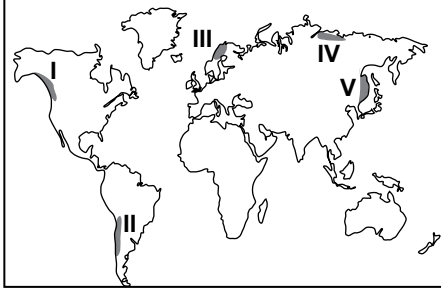
- A) I. ve II.
- B) I. ve III.
- C) III. ve IV.
- D) II. ve IV.
- E) III. ve V.

5. Hammadde, üretim ve pazar unsurları arasındaki ilişki dikkate alındığında aşağıdakilerden hangisi söylenemez?

- A) Sanayi üretiminin artması doğal kaynak tüketimini hızlandırmıştır.
- B) Hammaddelerin sanayi üretim alanlarına taşınması başka bir ekonomik faaliyetin doğmasına ortam hazırlamıştır.
- C) Ulaşım sistemlerindeki teknolojik gelişmeler, ülkeler arasında ticaretin gelişmesini sağlamıştır.
- D) Üretim faaliyetlerinin yoğun olması ülkelerin gelişimini yavaşlatmaktadır.
- E) Üretim faaliyetleri tüketim noktalarının isteklerine göre şekillenmektedir.

Küresel Ticaret: Hammadde, Üretim, Pazar

6.



Yukarıdaki haritada numaralandırılarak verilen yerlerin hangisinde balıkçılık faaliyetleri diğerlerine göre **daha az** yapılmaktadır?

- A) I B) II C) III D) IV E) V

7. • Batı Avrupa
• Kuzey Amerika
• Güneydoğu Asya

Bu yerlerde ticari faaliyetlerin yoğun olması üzerinde

- I. pazar imkanlarının gelişmiş olması
II. ulaşım imkanlarının yeterli olması
III. üretim ve tüketim faaliyetlerinin yoğun olması

verilenlerden hangileri etkili olmuştur ?

- A) Yalnız I
B) Yalnız II
C) I. ve II.
D) II. ve III.
E) I., II. ve III.

8. Hammaddeler çeşitlenen imalat kolları ve artan kapasiteye bağlı olarak imalat sanayi tarafından hızla tüketilmektedir.

Bu durumun sonuçları olarak aşağıdakilerden hangisi **gösterilemez**?

- A) Doğal kaynak tüketiminin artış göstermesi
B) Ulaşım faaliyetlerin hız kazanması
C) Ticari faaliyetlerin yoğunlaşması
D) İhtiyaçlara kolay ulaşılabilmesi
E) Nüfus artış hızının düşmesi

9. Aşağıdakilerden hangisi Dünya sanayi üretim alanları içerisinde **gösterilemez**?

- A) Rusya Federasyonu
B) Güneydoğu Asya
C) Amazon Havzası
D) Kuzey Avrupa
E) Almanya

10. Dünya genelinde markalaşmış büyük firmalar üretim merkezlerini Çin ve Hindistan gibi ülkelerin çevrelerinde kurmaktadır.

Bu durumun **temel nedeni** aşağıdakilerden hangisidir?

- A) Enerji kaynağına yakınlık
B) İş gücüne yakınlık
C) Hammaddeye yakınlık
D) Pazar alanlarına yakınlık
E) Ulaşım yollarına yakınlık

ÖLÇME, DEĞERLENDİRME VE SINAV HİZMETLERİ GENEL MÜDÜRLÜĞÜ



Adı :
Soyadı :
Sınıf :
NO :

1	2	3	4	5	6	7	8	9	10	11	12
A	A	A	A	A	A	A	A	A	A	A	A
B	B	B	B	B	B	B	B	B	B	B	B
C	C	C	C	C	C	C	C	C	C	C	C
D	D	D	D	D	D	D	D	D	D	D	D
E	E	E	E	E	E	E	E	E	E	E	E

Doğru :
Yanlış :
Boş :
Puan :