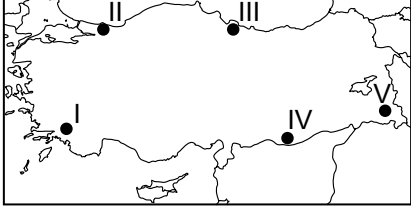


## SINIF Türkiye'deki Doğal Afetler

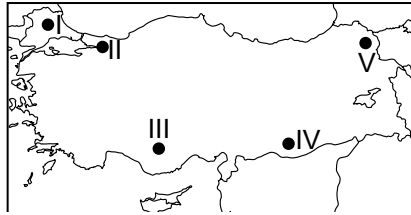
1. Kar yağışlarının fazla olduğu dağlık ve engebeli arazilerde çığ görülme ihtimali fazladır.



Buna göre haritada numaralandırılarak verilen yerlerin hangisinde çığ riski diğerlerine göre daha yüksektir?

- A) I B) II C) III D) IV E) V

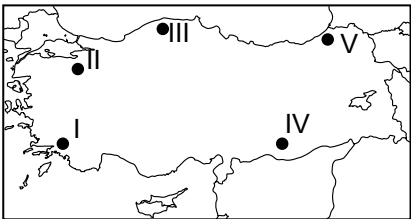
2. Ülkemizde en fazla can ve mal kaybına neden olan doğal afet depremdir.



Yukarıdaki haritada numaralandırılarak verilen yerlerin hangisinde deprem riski diğerlerine göre daha yüksektir?

- A) I B) II C) III D) IV E) V

3.



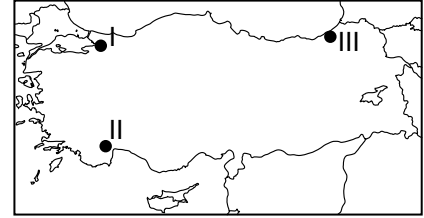
Bitki örtüsü ve iklim özellikleri düşünüldüğünde haritada numaralandırılarak verilen yerlerin hangisinde orman yangını riski diğerlerine göre daha yüksektir?

- A) I B) II C) III D) IV E) V

4. Ülkemizde depremlerin sıklıkla görülmesinin temel nedeni aşağıdakilerden hangisidir?

- A) İklim özellikleri  
B) Yer şekilleri  
C) Jeolojik yapı  
D) Bitki örtüsü  
E) Toprak özellikleri

5.



Haritada numaralandırılarak verilen yerlerde oluşma ihtimali en fazla olan doğal afet aşağıdakilerden hangisinde doğru verilmiştir?

- | I             | II            | III           |
|---------------|---------------|---------------|
| A) Heyelan    | Deprem        | Orman yangını |
| B) Deprem     | Orman yangını | Sel-taşkın    |
| C) Kuraklık   | Çığ           | Deprem        |
| D) Çığ        | Deprem        | Kuraklık      |
| E) Sel-taşkın | Kuraklık      | Orman yangını |

6. Türkiye'de yıllık yağış miktarının fazla olduğu yıllarda aşağıdaki doğal afetlerden hangilerinin daha fazla görülmesi beklenir?

- A) Sel - taşkın  
B) Erozyon – deprem  
C) Erozyon – kuraklık  
D) Deprem – orman yangını  
E) Kuraklık – kütle hareketleri

## Türkiye'deki Doğal Afetler

7. Ülkemizde depremlerden sonra en fazla can ve mal kaybına neden olan afet sel ve taşkın oluşumudur.

Ülkemizde sel ve taşkın riskinin fazla olması üzerinde

- I. akarsularının drenaj yapısı  
II. bitki örtüsünün yoğun olması  
III. yanlış arazi kullanımı

hangileri etkili olmaktadır?

- A) Yalnız I  
B) Yalnız II  
C) I. ve II.  
D) I. ve III.  
E) II. ve III.

8. Yer şekillerinin değişimine neden olan olaylardan biri de kütle hareketleridir. Kütle hareketleri, çeşitli nedenlerden dolayı yamaç dengesinin bozulması ile birlikte arazinin bir bölümünün yer çekimi kontrolünde şekil değiştirmesine verilen isimdir. Kaya düşmesi, heyelan, akma, kayma ve sürünme kütle hareketlerinden bazılarıdır.

Buna göre aşağıdakilerden hangisi kütle hareketleri riskini arttıran faktörler arasında gösterilemez?

- A) Yer altı sularının aşırı kullanımı  
B) Bitki örtüsünün tahrip edilmesi  
C) Aşırı sıcaklıklar  
D) Aşırı yağışlar  
E) Depremler

9. Türkiye'de orman yangınları en fazla Akdeniz ve Ege ormanlarında görülür.

Bu durumun temel nedeni aşağıdakilerden hangisidir?

- A) Nüfus artışının fazla olması  
B) Yer şekillerinin engebeli olması  
C) Turizm faaliyetlerinin fazla olması  
D) Yazların sıcak ve kurak olması  
E) Kış sıcaklık ortalamasının yüksek olması

10. Bitki örtüsünün zayıf olması aşağıdaki doğal afetlerden hangisinin oluşumunu etkileyen bir faktör değildir?

- A) Çığ  
B) Sel  
C) Taşkın  
D) Deprem  
E) Kütle hareketleri

11. Ülkemizde aşağıda verilen yerlerin hangisinde deprem riski diğerlerinden daha azdır?

- A) Van ve çevresi  
B) İzmir ve çevresi  
C) Kocaeli ve çevresi  
D) Erzincan ve çevresi  
E) Karaman ve çevresi



Adı : .....  
Soyadı : .....  
Sınıf : .....  
NO : .....

1	2	3	4	5	6	7	8	9	10	11	12
A	A	A	A	A	A	A	A	A	A	A	A
B	B	B	B	B	B	B	B	B	B	B	B
C	C	C	C	C	C	C	C	C	C	C	C
D	D	D	D	D	D	D	D	D	D	D	D
E	E	E	E	E	E	E	E	E	E	E	E

Doğru : .....  
Yanlış : .....  
Boş : .....  
Puan : .....