

## SINIF Nüfus Piramitleri ve Özellikleri

1. Aşağıdaki tablo bazı ülkelerin 2010 yılı doğum ve ölüm oranlarını göstermektedir.

Ülke	Doğum Oranı %	Ölüm Oranı %
Çin	1,3	0,75
Hindistan	2,3	0,79
Kenya	3,9	1
İngiltere	1,2	0,94
Meksika	2,1	0,48

Tablodaki bilgiler dikkate alındığında verilen ülkeler içerisinde doğal nüfus artış hızı **en düşük ve en yüksek** olan ülkeler aşağıdakilerden hangisinde verilmiştir?

**En düşük**

- A) Çin  
B) İngiltere  
C) Meksika  
D) İngiltere  
E) Çin

**En yüksek**

- Hindistan  
Kenya  
Hindistan  
Meksika  
Kenya

2. Nüfus piramitlerinde yaş grupları genel olarak 0-14 yaş arası çocuk, 15-64 yaş arası yetişkin, 65 yaş ve yukarı ise yaşlı nüfus olarak kabul edilmektedir.

Aşağıda verilen ülkelerden hangisinin yaşlı nüfus oranı diğer ülkelerin yaşlı nüfus oranına göre daha az olduğu söylenebilir?

- A) Bangladeş  
B) Japonya  
C) İngiltere  
D) Fransa  
E) Norveç

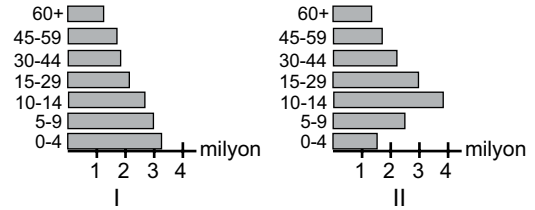
3. Aşağıda verilenlerden hangisi bir ülkenin gelişmişlik düzeyi hakkında bilgi **vermez**?

- A) Ülkede çalışan nüfusun ekonomik faaliyet kollarına göre dağılımı  
B) Ülkenin son on yıldaki doğal nüfus artış hızı  
C) Ülkenin kırsal ve kentsel nüfus oranı  
D) Ülkenin toplam nüfus miktarı  
E) Ülkenin dış ticaret açığı

4. Doğal nüfus artış hızı Dünya ortalamasının üzerinde olan bir ülke ile ilgili olarak aşağıdaki ifadelerden hangisi **kesin** olarak söylenebilir?

- A) Kentlerde yaşayan nüfus miktarı kırsal alanlarda yaşayan nüfus miktarına göre daha fazladır.  
B) Tarımda çalışan nüfus miktarı sanayide çalışan nüfus miktarına göre daha azdır.  
C) Erkeklerde ortalama yaşam süresi kadınlara göre daha fazladır.  
D) Bir yıl içerisindeki doğum oranı ölüm oranına göre daha fazladır.  
E) Yaşlı nüfus oranı genç nüfus oranına göre daha fazladır.

- 5.



Nüfus piramidi son 20 yıl içerisinde I. Şekilden II. Şekle doğru değişim gösteren bir ülke hakkında aşağıdaki ifadelerden hangisi **kesinlikle** söylenebilir?

- A) Ölüm oranı artmıştır.  
B) Toplam nüfusu azalmıştır.  
C) Doğal nüfus artış hızı azalmıştır.  
D) Ortalama yaşam süresi kısalmıştır.  
E) Kırsal nüfus oranı kentsel nüfus oranından fazladır.

6. I. Yaşlı nüfusu çocuk nüfusundan fazladır.  
II. Nüfus artışında yalnızca göçler etkili olmaktadır.  
III. Bir yıl içerisindeki çocuk ölüm oranı yaşlı nüfus ölüm oranına göre daha fazladır.

64 yaş üzerindeki nüfus oranı 0-14 yaş arasındaki nüfus oranından fazla olan bir ülke ile ilgili olarak yukarıda verilen ifadelerden hangileri **kesin** olarak söylenebilir?

- A) Yalnız I  
B) Yalnız II  
C) Yalnız III  
D) I. ve III.  
E) II. ve III.

## Nüfus Piramitleri ve Özellikleri

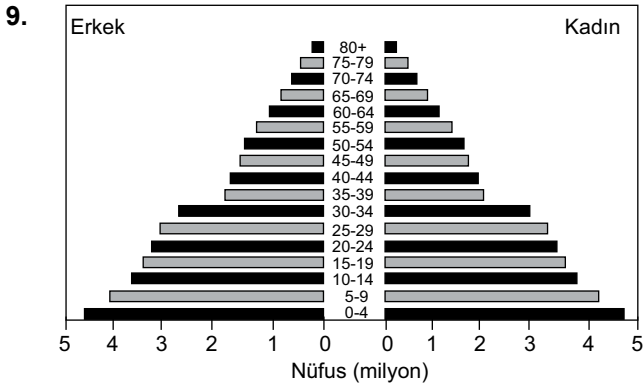
7. Aşağıda verilen kıtalardan hangisinin doğal nüfus artış hızının diğerlerine göre daha az olduğu söylenebilir?

- A) Asya  
B) Afrika  
C) Avrupa  
D) Amerika  
E) Avustralya

8. I. Beslenme koşulları  
II. Nüfus planlamaları  
III. Sağlık hizmetleri

Bir ülkenin nüfusunun ortalama yaşam süresi üzerinde yukarıda verilenlerden hangilerinin etkili olduğu söylenebilir?

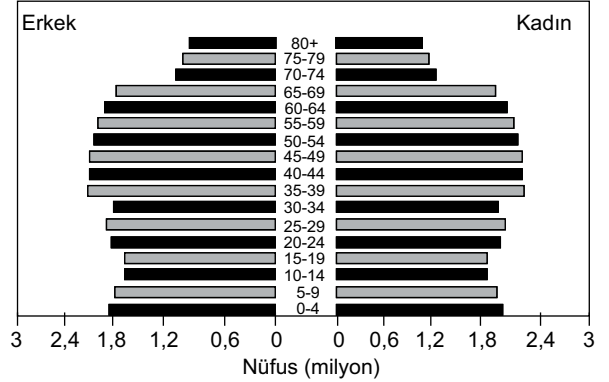
- A) Yalnız I  
B) Yalnız II  
C) I. ve II.  
D) I. ve III.  
E) I., II. ve III.



Yukarıda nüfus piramidi verilen bir ülke hakkında piramide bakarak aşağıda verilenlerden hangisine ulaşamaz?

- A) Toplam nüfus miktarına  
B) Nüfusun cinsiyete göre dağılımına  
C) Yaşlı nüfusun toplam nüfus içindeki oranına  
D) Aritmetik nüfus yoğunluğuna  
E) Genç nüfusun yaşlı nüfusa oranına

10.



Yukarıda verilen nüfus piramidine bakılarak aşağıdakilerden hangisi söylenemez?

- A) 10-14 yaş aralığındaki toplam nüfus 20-24 yaş aralığındaki toplam nüfustan azdır.  
B) 0-4 yaş aralığında kadın nüfus erkek nüfustan fazladır.  
C) 30-34 yaş aralığındaki kadın nüfus miktarı 2,5 milyondan azdır.  
D) 15-19 yaş aralığındaki toplam nüfus 50-54 yaş aralığındaki toplam nüfustan azdır.  
E) Toplam nüfus miktarı 120 milyondan fazladır.

11. Bir ülkenin nüfus piramidinin tabanında son yıllarda daralma varsa bu ülke ile ilgili olarak aşağıdakilerden hangisi kesin olarak söylenebilir?

- A) Beyin göçü almıştır.  
B) Doğum oranı azalmıştır.  
C) Kadın nüfus miktarı artmıştır.  
D) Yaşlı nüfus miktarı azalmıştır.  
E) Toplam nüfus miktarı azalmıştır.

12. Bir ülkede son yirmi yıl içerisinde çocuk nüfus oranı, demografik yatırımlar, doğal kaynakların tüketimi artmıştır.

Yukarıda verilen bilgiler dikkate alındığında bu ülke ile ilgili olarak aşağıdakilerden hangisinin de arttığı kesinlikle söylenebilir?

- A) Tarım alanlarının  
B) Et ve süt üretiminin  
C) Doğal nüfus artış hızının  
D) Endüstri tesislerinin sayısının  
E) Yaşlı nüfusun toplam nüfusa oranının



Adı : .....  
Soyadı : .....  
Sınıf : .....  
NO : .....

1	2	3	4	5	6	7	8	9	10	11	12
A	A	A	A	A	A	A	A	A	A	A	A
B	B	B	B	B	B	B	B	B	B	B	B
C	C	C	C	C	C	C	C	C	C	C	C
D	D	D	D	D	D	D	D	D	D	D	D
E	E	E	E	E	E	E	E	E	E	E	E

Doğru : .....  
Yanlış : .....  
Boş : .....  
Puan : .....